

Prénom : _____

Contrat n° 26



Signature



4^e

COMPLET et **SIGNÉ**

Lundi	Mardi	Mercredi	Jeudi	Vendredi	Samedi Dimanche	+ relire et faire signer
n°	n°	n°	n°	n°	n°	

Lorsque tu as terminé ton devoir, tu le présentes à tes parents qui **vérifient** s'il est complet, soigné et qui le **signent**.

1) Décomposer l'addition pour passer par une centaine ronde.

Observe :

$$158 + 75 = (158 + 42) + 33 = 233$$

200



A toi d'utiliser le même procédé !

$$275 + 48 = (275 + \quad) + \quad =$$

$$785 + 48 = (785 + \quad) + \quad =$$

$$379 + 56 =$$

$$729 + 86 =$$

$$674 + 68 =$$

$$784 + 68 =$$

$$846 + 76 =$$

$$486 + 76 =$$

$$186 + 78 =$$

$$816 + 98 =$$

$$588 + 74 =$$

$$858 + 74 =$$

2) Souligne le groupe sujet dans chaque phrase et remplace-le par un pronom.

Hier, Marie a mangé la pomme de son frère.

→ _____

Les animaux de la forêt se cachent derrière les arbres.

→ _____

Maintenant, Lucie et Céline vont faire les courses.

→ _____

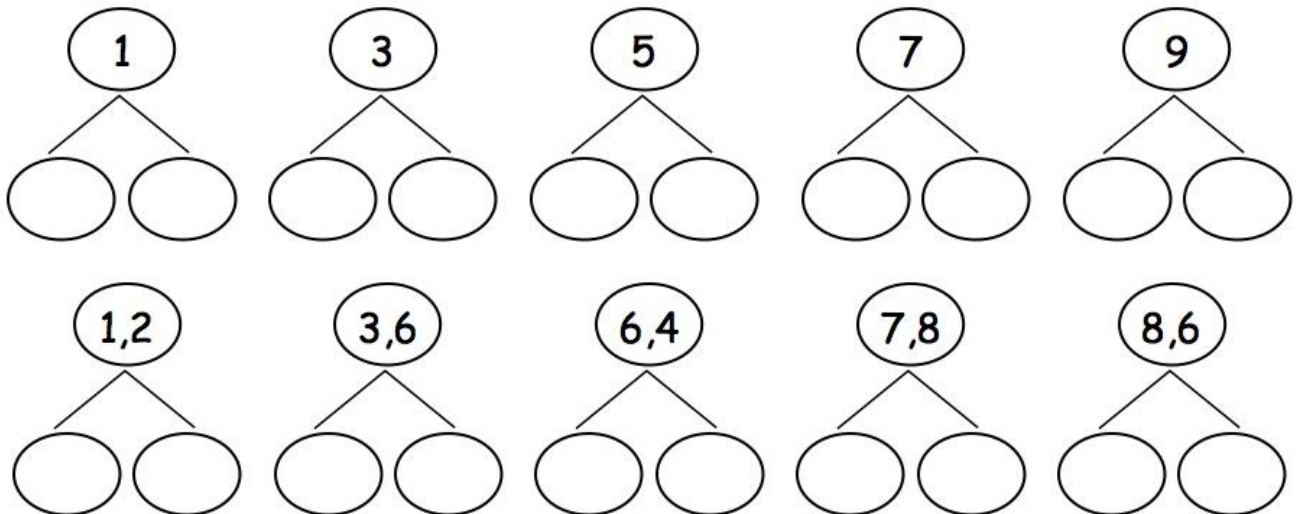
Après demain, Florian ira au cirque.

→ _____

En Belgique, les montois fêtent le Doudou.

→ _____

3) Divise en 2 parts égales.



4) Résous ces calculs écrits.

$$\begin{array}{r} 158 \\ \times 12 \\ \hline \end{array}$$

$$\begin{array}{r} 93 \\ \times 22 \\ \hline \end{array}$$

$$\begin{array}{r} 123 \\ \times 32 \\ \hline \end{array}$$

$$\begin{array}{r} 213 \\ \times 24 \\ \hline \end{array}$$

$$\begin{array}{r} 2384 \\ - 1594 \\ \hline \end{array}$$

$$\begin{array}{r} 4237 \\ - 2475 \\ \hline \end{array}$$

$$\begin{array}{r} 2587 \\ - 1275 \\ \hline \end{array}$$

$$\begin{array}{r} 5675 \\ - 3467 \\ \hline \end{array}$$

$$\begin{array}{r} 1258 \\ + 898 \\ \hline \end{array}$$

$$\begin{array}{r} 1569 \\ + 2576 \\ \hline \end{array}$$

$$\begin{array}{r} 1589 \\ + 984 \\ \hline \end{array}$$

$$\begin{array}{r} 1458 \\ + 6589 \\ \hline \end{array}$$

5) Place les nombres CORRECTEMENT pour résoudre ces calculs écrits.

$$\begin{array}{r} 95,4 - 32,3 \\ 55,60 - 21,61 \end{array}$$

$$\begin{array}{r} 14,5 - 6,27 \\ 16,4 + 8,23 \end{array}$$

$$\begin{array}{r} 5,68 - 1,45 \\ 14,9 + 5,64 \end{array}$$

$$\begin{array}{r} 7,41 + 12,5 \\ 83 - 9,51 \end{array}$$

$$\begin{array}{r} 41 + 62,4 \\ 58 + 2,86 \end{array}$$

--	--	--	--	--

--	--	--	--	--

6) Soirée télé !

Calcule la durée de ces films !

Alice au pays des merveilles = 72 min = ...h...

Deux en un = 118 min = ... h ...

Dumbo = 64 min = ... h ...

Le pianiste = 144 min = ... h ...

Les Choristes = 92 min = ... h ...

Narnia = 137 min = ... h ...

Je m'installe devant la télé, il est 20h30. Si je regarde le film « Les Choristes » en faisant un entracte de 10 minutes à la moitié du film, à quelle heure le film finira-t-il ?

Explique comment tu as calculé !

Calcul + réponse : _____

Dossier de travail

Semaine 4

1) Transforme la phrase en la laissant au passé composé.

J'ai vu des poissons. → Tu _____

J'ai retenu 5 moments. → Vous _____

J'ai fait la piste noire. → Il _____

Tu as passé un bon congé → J' _____

Tu as pris ton cahier. → Nous _____


2) Indique la fraction représentée pour chaque figure.



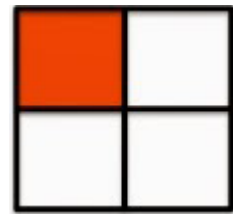
—



—




—



—



—



—



—



—




—



—



—



—

3) Complète les comptages.

Par 3 ⇒

0	3										
---	---	--	--	--	--	--	--	--	--	--	--

Par 6 ⇒

0	6										
---	---	--	--	--	--	--	--	--	--	--	--

Par 9 ⇒

0	9										
---	---	--	--	--	--	--	--	--	--	--	--

Par 7 ⇒

0	7										
---	---	--	--	--	--	--	--	--	--	--	--

Par 5 ⇒

0	5										
---	---	--	--	--	--	--	--	--	--	--	--

Par 8 ⇒

0	8										
---	---	--	--	--	--	--	--	--	--	--	--

4) Résous ces soustractions écrites.

5, 2 1	7, 5 7	8, 3 3	3, 1 3
- 3, 4 6	- 1, 9 2	- 2, 7 9	- 0, 8 8

4, 5 0	6, 7 7	7, 7 5	2, 2 2
- 2, 7 8	- 2, 8 9	- 1, 8 7	- 1, 3 8

1 2, 3 6	7 5, 8 1	4 1, 3 6
- 1, 5 7	- 6, 7 6	- 1 4, 4 6

5) Entoure le verbe au passé composé et écris son infinitif.

- Loïc s'est cassé la jambe. → _____
- Ils sont partis en Italie ensemble. → _____
- Elisa et Noa se sont déguisés. → _____
- Louis a mis son contrat dans sa farde. → _____
- Tom a vu un arc-en-ciel. → _____
- Nous avons regardé un documentaire. → _____
- Le facteur a déposé un colis. → _____

6) Colorie les mots usuels identiques et recopie-les 3x.

assez	tantôt	comment	aussitôt	aujourd'hui	voici
voici	d'abord	pourtant	ensuite	tout à coup	assez
ensuite	parce que	assez	un peu de	tantôt	aussitôt
un peu de	Voici	un peu de	d'abord	ensuite	d'abord
qu'est-ce que	aujourd'hui	mieux	tout à coup	assez	ensuite
tantôt	un peu de	qu'est-ce que	aussitôt	parce que	mieux
comment	qu'est-ce que	d'abord	aujourd'hui	comment	qu'est-ce que
pourtant	parce que	tout à coup	mieux	pourtant	voici

Recopie chaque mot usuel 3 fois.
