

Prénom : _____

4^e

Contrat n° 27

COMPLET et **SIGNÉ**



Signature



Lundi	Mardi	Mercredi	Jeudi	Vendredi	Samedi Dimanche	+ relire et faire signer
n°	n°	n°	n°	n°	n°	

Lorsque tu as terminé ton devoir, tu le présentes à tes parents
qui **vérifient** s'il est complet, soigné et qui le **signent**.

1) Multiplier et diviser par 10, 100 et 1000.

a) Entoure les calculs corrects !

$14,5 : 100 = 1,45$	$70,45 \times 10 = 7\ 405$	$54,78 \times 1000 = 5\ 478$
$1,57 \times 100 = 157$	$41 : 10 = 41,0$	$4,078 : 10 = 40,78$
$6002,5 : 100 = 600,25$	$7,024 \times 100 = 7\ 024$	$0,06 \times 100 = 6$
$4,840 \times 10 = 48,4$	$885,7 : 100 = 8,857$	$478,02 : 10 = 47,802$

b) Vérifie ces calculs : trace un \checkmark si la réponse est correcte
barre la réponse fausse et écris la bonne réponse.

⊕

$35 \times 10 = 350$	$2,03 : 10 = 20,3$	$5,8 \times 10 = 58$
$657 : 10 = 6,57$	$7,09 \times 100 = 709$	$47,76 \times 100 = 4776$
$4,59 \times 10 = 459$	$12,4 : 10 = 1,24$	$19,09 : 100 = 1,909$
$908 : 100 = 9,08$	$7,51 \times 1000 = 7\ 510$	$4,12 \times 100 = 412$
$12 \times 1000 = 12\ 000$	$81,09 : 10 = 8,109$	$80,50 : 10 = 8,05$

2) Complète les noms communs au pluriel par s ou x.

les jeu... des oiseau...	les boyau... ou les pneu...
des tonneau... en chêne	les naseau... des taureau...
des clou... et des marteau....	des bleu... aux yeu...
les morceau... des drapeau...	des bijou... et des anneau...

les roue... des landau...	des ciseau... et des couteau...
---------------------------	---------------------------------

3) Complète les comptages et écris par combien on compte.

1240	1260	On compte par
1300	2300	On compte par
150	200	On compte par
800	900	On compte par
200	400	On compte par

4) Ajoute ails ou aux aux noms communs au pluriel.

agiter des éven.....	protéger les cor.....
fermer les port.....	réparer les gouvern.....
brosser les poitr..... des chev.....	remarquer les dét.....
réaliser des trav..... importants	admirer les vitr..... des églises
acheter des ém..... colorés	longer les r..... de la voie ferrée

5) Ecris l'infinitif des verbes conjugués.

Nous avons aperçu →	J'ai perdu →
Tu as félicité →	Il est parvenu →
Ils sont tombés →	Vous avez écrit →
Elle a souhaité →	Nous avons lu →
Tu es allé →	Elles ont eu →

6) Souligne les verbes au passé composé et écris leur infinitif.

Tu lui as offert ce cadeau pour son anniversaire.	
Nous avons reçu nos feuilles d'exercices.	
Avez-vous décidé de les accompagner ?	
Il n'a pas dormi à la maison cette semaine.	
Ont-ils mangé avant de partir ?	
Elle a placé tous les dominos sur la table.	
Je n'ai pas lu ton livre.	
Les garçons sont partis tôt ce matin.	

7) Calcule le prix payé pour les marqueurs .

Nombre de marqueurs achetés à 1,50 € pièce	Je devrai payer (calcul + réponse)	Je donne	On me rend (calcul + réponse)
3		5 €	
5		10 €	
10		20 €	
4		10 €	
8		20 €	

8) Calcule rapidement.

$7 \times 3 =$	$48 : 6 =$	$0 \times 7 =$	$8 \times 9 =$
$2 \times 8 =$	$25 : 5 =$	$4 \times 8 =$	$64 : 8 =$
$5 \times 6 =$	$30 : 6 =$	$40 : 5 =$	$36 : 9 =$
$21 : 3 =$	$60 : 6 =$	$28 : 4 =$	$20 : 4 =$
$12 : 2 =$	$8 \times 8 =$	$16 : 2 =$	$44 : 4 =$
$15 : 3 =$	$63 : 7 =$	$35 : 7 =$	$32 : 4 =$
$24 : 3 =$	$7 \times 8 =$	$6 \times 4 =$	$9 \times 5 =$
$6 \times 6 =$	$72 : 9 =$	$9 \times 6 =$	$90 : 10 =$

54 : 6 =	16 : 4 =	9 × 4 =	100 : 1 =
----------	----------	---------	-----------

9) Recopie ces phrases au temps demandé.

Vous aurez un nouveau ballon. → *Indicatif présent*

Cet été, iras-tu dans les Ardennes ? → *Indicatif passé composé*

Je parle de toi à mon ami . → *Indicatif passé composé*

Ce soir, les enfants ont mangé des pâtes. → *Indicatif présent*

Vous lui dites que je suis venu lui rendre visite ? → *Indicatif futur simple*

Nous sommes en troisième année . → *Indicatif imparfait*

Les élèves peignent à la façon Magritte. → *Indicatif futur simple*

Je prends mon déjeuner à 7h30. → *Indicatif futur simple*

Maman sort le chien chaque matin. → *Indicatif imparfait*

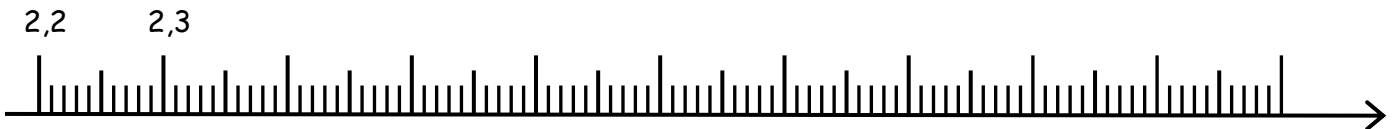
Mes amies partent en promenade au parc. → *Indicatif passé composé*

Dossier de travail

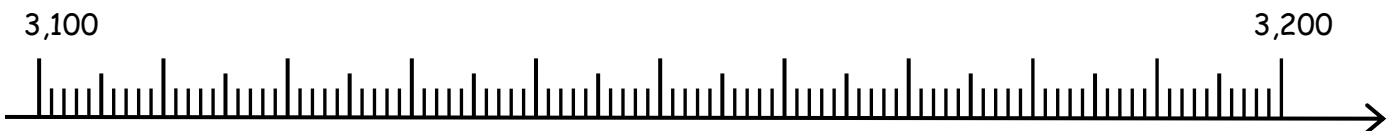
Semaine 5

1) Place ces nombres au bon endroit.

2,5 / 2,65 / 2,25 / 2,70 / 3,19 / 2,99 / 3,05



3,150 / 3,125 / 3,17 / 3,19 / 3,16 / 3,185 / 3,109



2) Conjugue les verbes au passé composé.



Julien _____ (passer) ses vacances au bord de la mer. Tous les jours, il _____ (aller) sur la plage.

C'est là qu'il _____ (rencontrer) Marine. Marine lui _____ (proposer) de construire un château de

sable. Julien _____ (prendre) sa pelle et il _____ (commencer)

à former un gros tas. Marine _____ (creuser) un grand fossé autour du

château. Marine et Julien _____ (remplir) le fossé avec de l'eau. Ensuite,

ils _____ (ramasser) des coquillages pour décorer le château. Ils _____

_____ (passer) toute l'après-midi pour réaliser ce petit chef d'œuvre. Vers

17h, quand la mer _____ (monter), elle _____ (faire)

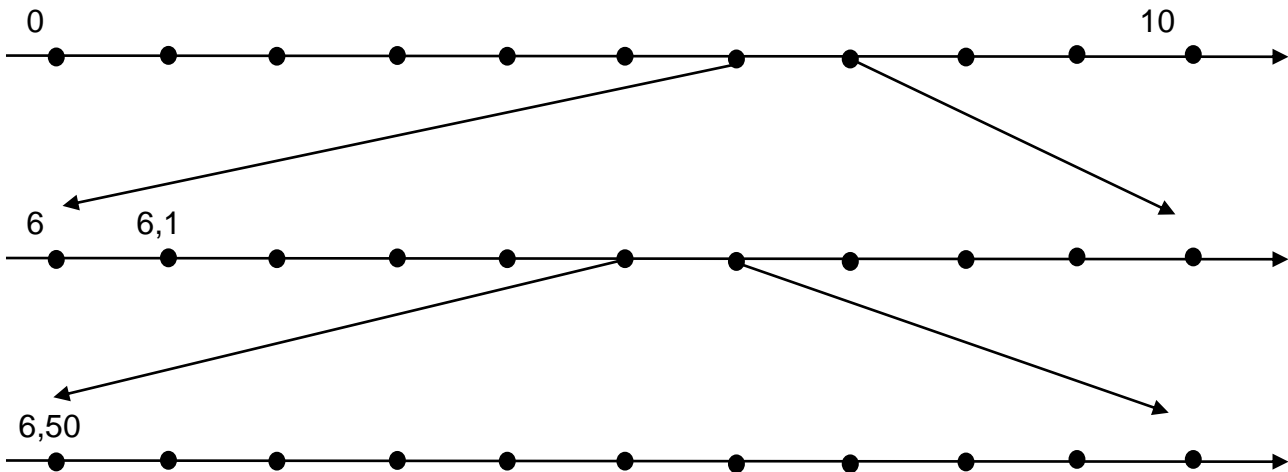
disparaître toute la construction. Marine et Julien _____ (applaudir) leur

travail et ils _____ (rentrer) prendre leur goûter : c'est sûr, ils _____

_____ (mériter) une bonne glace !

3) Place les nombres donnés sur la bonne ligne !

3	6,3	6,60	6,52	6,9	6,58	8	6,60	6,55	6,5
---	-----	------	------	-----	------	---	------	------	-----



4) Complète pour arriver à l'unité.

- | | | |
|----------------------|--|--|
| $35c + \dots = 100c$ | $0,43 \text{ €} + \dots = 1 \text{ €}$ | $18 \text{ €} + \dots = 40 \text{ €}$ |
| $42c + \dots = 100c$ | $0,85 \text{ €} + \dots = 1 \text{ €}$ | $11 \text{ €} + \dots = 50 \text{ €}$ |
| $51c + \dots = 100c$ | $0,68 \text{ €} + \dots = 1 \text{ €}$ | $27 \text{ €} + \dots = 60 \text{ €}$ |
| $68c + \dots = 100c$ | $0,15 \text{ €} + \dots = 1 \text{ €}$ | $16 \text{ €} + \dots = 50 \text{ €}$ |
| $59c + \dots = 100c$ | $0,12 \text{ €} + \dots = 1 \text{ €}$ | $26 \text{ €} + \dots = 30 \text{ €}$ |
| $38c + \dots = 100c$ | $0,28 \text{ €} + \dots = 1 \text{ €}$ | $44,50 \text{ €} + \dots = 60 \text{ €}$ |
| $26c + \dots = 100c$ | $0,76 \text{ €} + \dots = 1 \text{ €}$ | $35,75 \text{ €} + \dots = 50 \text{ €}$ |
| $19c + \dots = 100c$ | $0,57 \text{ €} + \dots = 1 \text{ €}$ | $77,40 \text{ €} + \dots = 90 \text{ €}$ |
| $44c + \dots = 100c$ | $0,72 \text{ €} + \dots = 1 \text{ €}$ | $68,17 \text{ €} + \dots = 90 \text{ €}$ |

5) Ecris les nombres qui encadrent.

- | | | |
|----------------------|----------------------|----------------------|
| < 3,62 < | < 2,85 < | < 9,13 < |
| < 3,62 < | < 2,85 < | < 9,13 < |
| < 3,62 < | < 2,85 < | < 9,13 < |








6) Ecris ces fractions.

UN QUART →
 UN DEMI →
 DEUX TIERS →
 TROIS SIXIEMES →

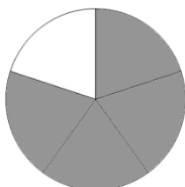
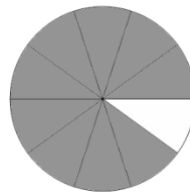


ONZE DEMIS →
 TROIS SIXIEMES →
 DIX QUINZIEMES →
 QUINZE ONZIEMES →

TROIS QUARTS →
 CINQ CENTIEMES →
 DIX-SEPT DOUZIEMES →
 HUIT SEPTIEMES →

7) « Découpe » puis colorie la fraction demandée.

$\frac{3}{4}$		$\frac{5}{7}$		$\frac{1}{2}$		$\frac{1}{4}$	
$\frac{2}{4}$		$\frac{1}{3}$		$\frac{1}{2}$		$\frac{1}{2}$	

8) Ecris la fraction représentée.



==

==

==

9) Compte en unités puis en dixièmes, centièmes.

0	3									
0	0,3									

0	6									
0	0,6									

0	9									
0	0,9									

0	4									
0	0,04									

0	8									
0	0,08									

0	7									
0	0,7									

10) Conjugue les verbes au passé composé.

- 1) J' (regarder) par la fenêtre.
- 2) Tu (parler) trop bas pour qu'il t'entende.
- 3) Nous(vouloir) découvrir la vérité.
- 4) On n' pas (pouvoir) réparer ton jeu.
- 5) Elles (savoir) tout de suite de quoi il s'agissait.
- 6) J' (pouvoir) entrer sans autorisation.
- 7) Maman (regarder) l'émission attentivement.

8) Les élèves(vouloir) en savoir plus sur l'appareil respiratoire.

9) Nous(parler) de toi un bon moment.

10) Vous (savoir) qu'il avait déménagé ?

BON TRAVAIL ;-)