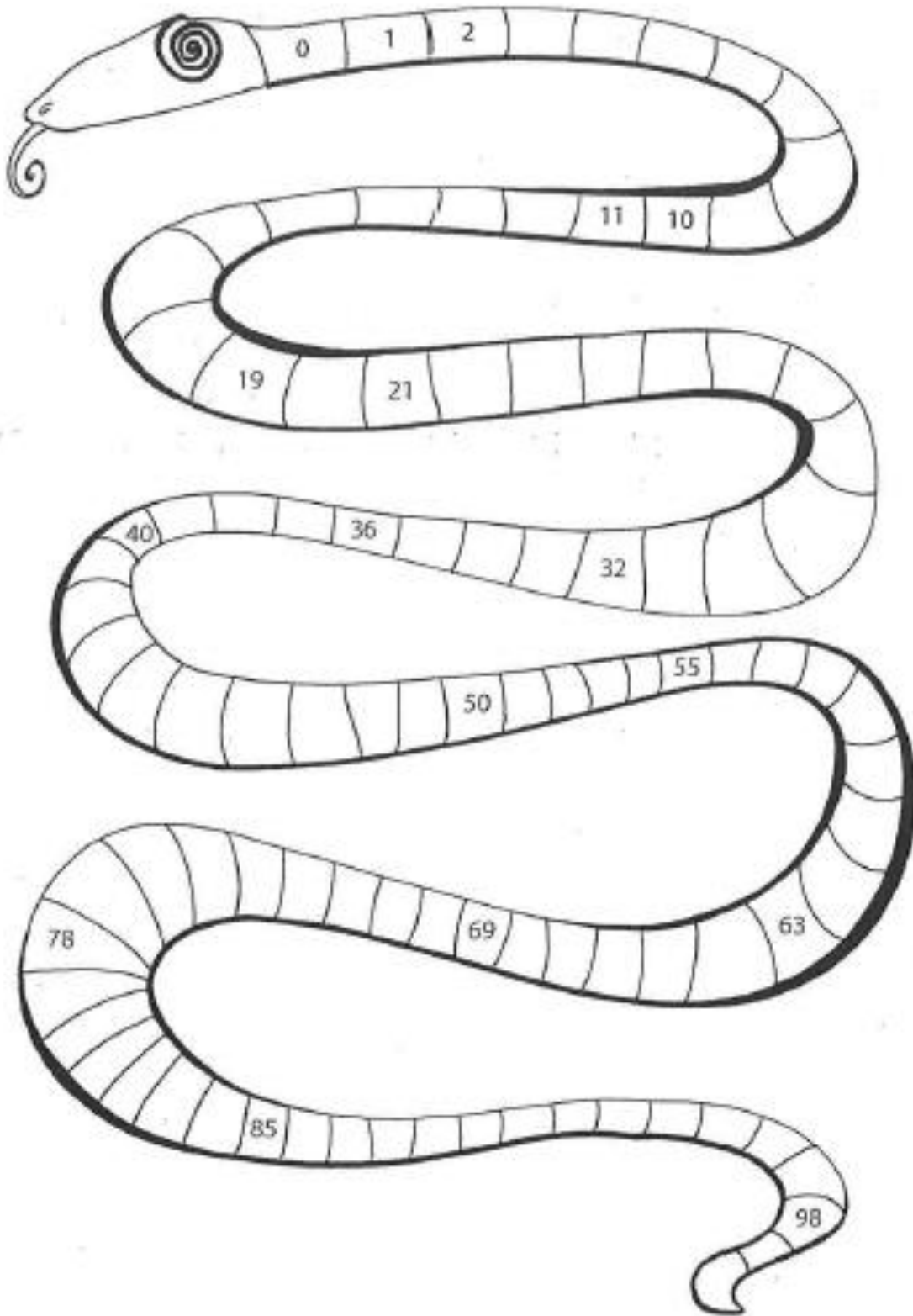
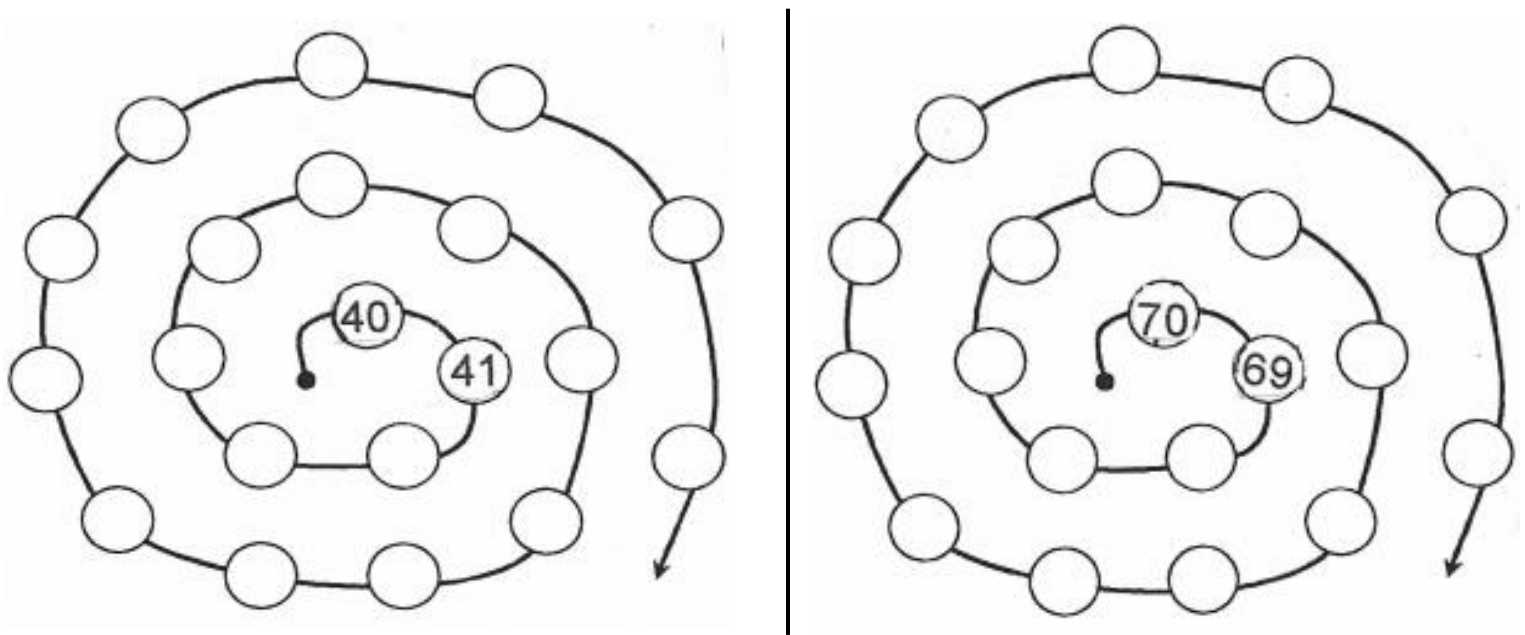


Dossier n°4 (à réaliser en deux semaines)

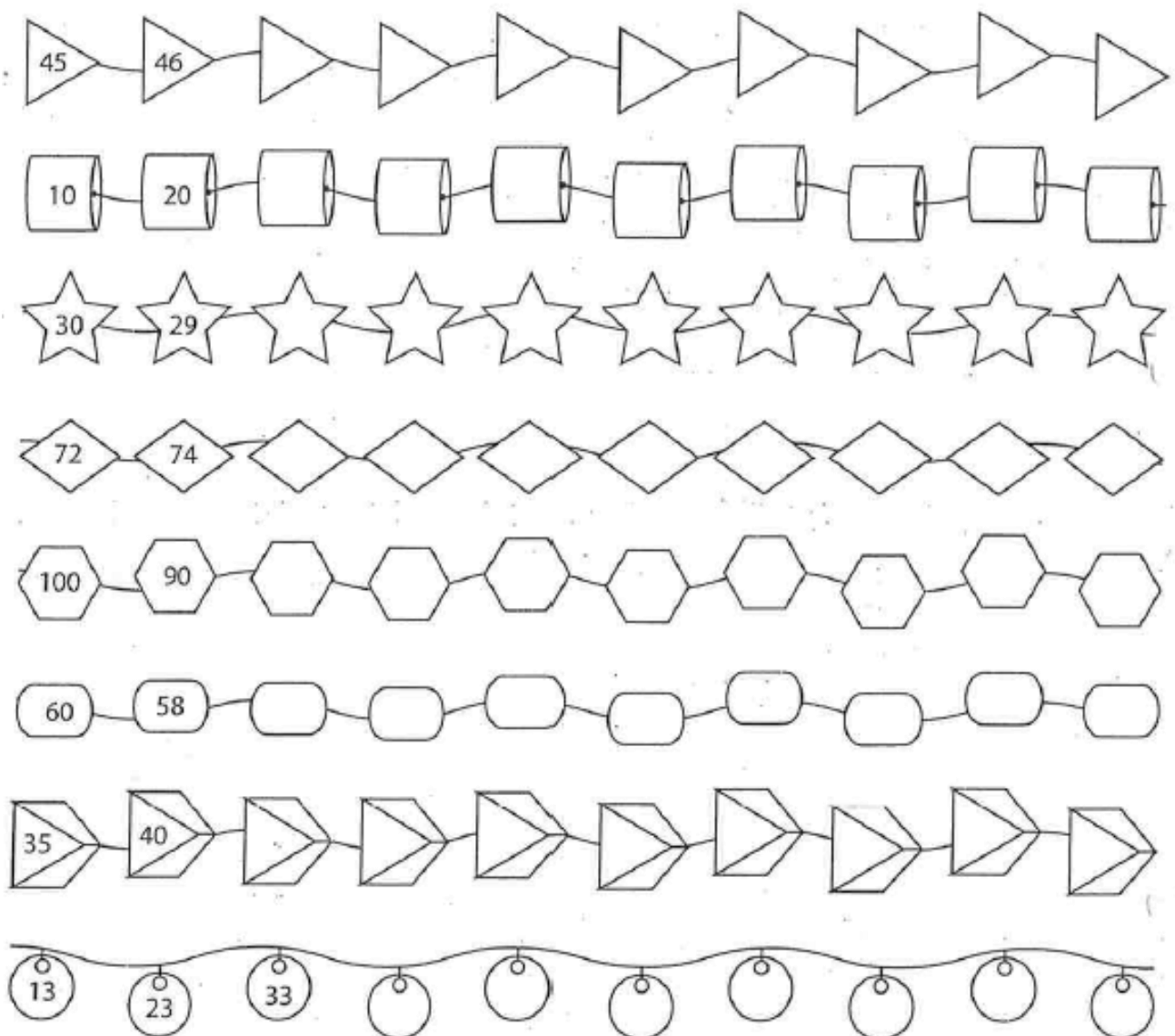
1. Complète le chemin des nombres.



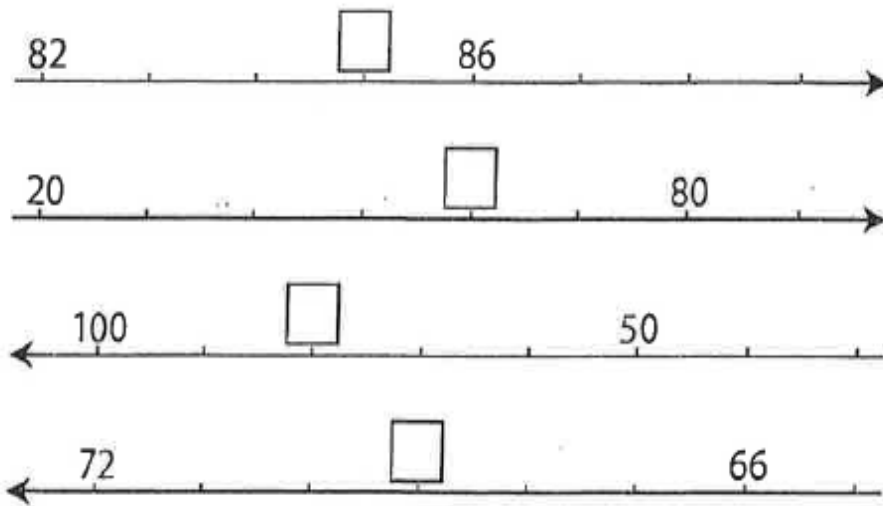
2. Complète.



3. Complète les colliers de perles.



4. Colorie la case qui correspond au nombre manquant.



83 84 85

50 60 70

70 60 80

68 69 70

5. Dessine les étiquettes pour former le nombre demandé.

65	<input type="checkbox"/> 60 <input type="checkbox"/> 5
48	
73	
85	
31	
54	
29	
17	
44	
62	

96	
29	
84	
153	
186	
162	
195	
127	
141	
58	

6. Quel nombre vas-tu construire ?

30 7	37
60 2	
4 90	
6 80	
10 3	
50 1	
6 20	
40 6	
30 2	
5 70	

60 8	
80 9	
3 30	
100 8 60	
40 100 3	
5 50 100	
90 100 1	
70 4 100	
30 100 9	
2 80 100	

7. À l'aide des étiquettes, construis des nombres.

5 7 3 80 100

1 9 6 50 100

2 8 4 30 100

8. Barre les nombres que tu ne peux pas former avec ces étiquettes.





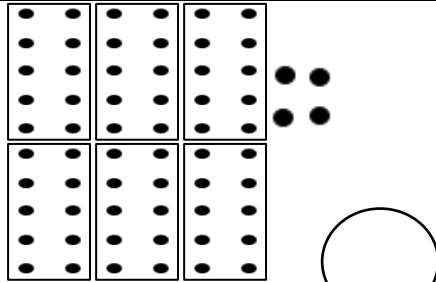
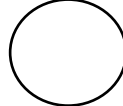
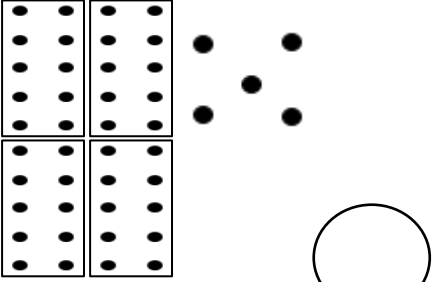
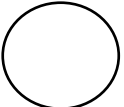



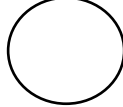




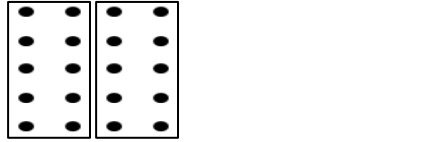

50 8 20 1 100 6

158	185	822	161	126
12	210	58	156	108
105	120	85	1058	21


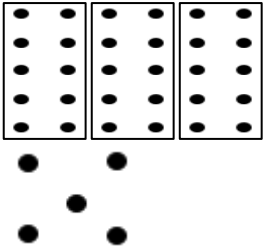


4 8 3 50 100

158	52	173	150	108
57	58	104	154	183
153	103	105	53	54











9. Ecris le nombre représenté.

10. Barre ou ajoute pour avoir la quantité demandée.

 <div style="border: 1px solid black; border-radius: 50%; width: 40px; height: 40px; margin: 0 auto; display: flex; align-items: center; justify-content: center;">46</div>	 <div style="border: 1px solid black; border-radius: 50%; width: 40px; height: 40px; margin: 0 auto; display: flex; align-items: center; justify-content: center;">25</div>	 <div style="border: 1px solid black; border-radius: 50%; width: 40px; height: 40px; margin: 0 auto; display: flex; align-items: center; justify-content: center;">41</div>	 <div style="border: 1px solid black; border-radius: 50%; width: 40px; height: 40px; margin: 0 auto; display: flex; align-items: center; justify-content: center;">89</div>
---	---	--	---

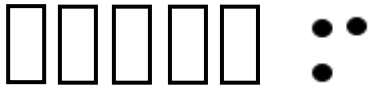
11. Entoure les cases qui sont correctes.

<p>36 </p>	<p>94 </p>
<p>54 </p>	<p>21 </p>
<p>18 </p>	<p>82 </p>
<p>45 </p>	<p>57 </p>
<p>63 </p>	<p>70 </p>

12. Complète.

4 D et 8 U = ...	8 D et 2 U = ...	4 U et 6 D = ...	3 U et 9 D = ...
5 U et 6 D = ...	2 U et 5 D = ...	7 D et 1 U = ...	5 D et 0 U = ...
3 D et 3 U = ...	5 U et 7 D = ...	1 U et 2 D = ...	8 U et 2 D = ...
9 U et 6 D = ...	1 D et 4 U = ...	5 U et 3 D = ...	7 U et 3 D = ...
5 U et 3 D = ...	4 D et 1 U = ...	9 D et 8 U = ...	0 U et 8 D = ...

13. Complète le tableau en suivant l'exemple.

5 D et 3 U		50 et 3	= 53
7 D et 3 U			=
4 U et 6 D			=
8 U et 3 D			=
4 D et 0 U			=
7 U et 3 U			=
9 U et 4 D			=
3 D et 3 U			=
4 D et 3 D			=
2 U et 8 D			=
2 D et 4 D			=
0 U et 3 D			=

14. Complète.

$75 = \dots \text{ D et } \dots \text{ U}$

$43 = \dots \text{ U et } \dots \text{ D}$

$17 = \dots \text{ D et } \dots \text{ U}$

$95 = \dots \text{ U et } \dots \text{ D}$

$59 = \dots \text{ U et } \dots \text{ D}$

$64 = \dots \text{ D et } \dots \text{ U}$

$81 = \dots \text{ U et } \dots \text{ D}$

$54 = \dots \text{ D et } \dots \text{ U}$

$28 = \dots \text{ D et } \dots \text{ U}$

$30 = \dots \text{ U et } \dots \text{ D}$

$96 = \dots \text{ D et } \dots \text{ U}$

$24 = \dots \text{ U et } \dots \text{ D}$

15. Entoure la réponse qui convient.

2 dizaines et 5 unités 52 25 55	8 unités et 6 dizaines 86 88 68	3 dizaines 3 30 300
4 unités et 9 dizaines 49 44 94	1 dizaine et 7 unités 71 17 11	5 dizaines 500 5 50
6 unités et 7 dizaines 76 67 77	3 dizaines et 6 unités 33 63 36	8 dizaines et 1 unité 88 81 18

16. Invente un nombre à 2 chiffres dans lequel :

Le chiffre des dizaines est 5 →

Le chiffre des unités est 9 →

Le chiffre des dizaines est 2 →

Le chiffre des dizaines est 4 →

Le chiffre des unités est 0 →

Le chiffre des dizaines est 1 →

Le chiffre des unités est 6 →

Le chiffre des unités est 3 →

17. Calcule (regarde bien ce qui est demandé).

$50 + 8 = \dots$

$6 + \dots = 66$

$70 + 5 = \dots$

$3 + 20 = \dots$

$30 + \dots = 36$

$30 + 1 = \dots$

$8 + \dots = 98$

$5 + 50 = \dots$

$70 + 9 = \dots$

$10 + 6 = \dots$

$4 + \dots = 44$

$60 + 7 = \dots$

$8 + 20 = \dots$

$5 + \dots = 45$

$0 + 70 = \dots$

$7 + 50 = \dots$

$2 + 20 = \dots$

$10 + 5 = \dots$

$8 + 40 = \dots$

$3 + 30 = \dots$

$80 + \dots = 85$

$90 + \dots = 92$

$100 + 0 = \dots$








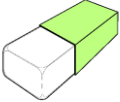


$6 + 10 = \dots$

$1 + 70 = \dots$

$\dots + 50 = 59$

$60 + 3 = \dots$

18. Complète avec les mots (ajoute le mot « et » entre les mots).


		_____
		_____
		_____
		_____
		_____

une gomme	un camion	un crayon	une pomme	un chien
un coq	un chat	une poule	une voiture	une poire

19. Lis les phrases et écris « vrai » ou « faux ».

Il y a 5 garçons dans notre classe.
L'éléphant utilise sa trompe pour manger.
Le mouton a deux pattes.
À l'école, on utilise des crayons.
En automne, les feuilles tombent.
Le plumier est un animal.

20. Lis les phrases et écris le prénom de chaque enfant sur son banc.



- Alexis lève le bras.
- Ilario porte des lunettes.
- Tom a une latte dans son cartable.
- Imrane est assis derrière Olivia qui a un nœud dans les cheveux.
- Emilie est assise devant Ilario, elle a une tresse.
- Sélina est assise devant Alexis.
- Cassy est assise au premier rang.
- Dalia est seule sur son banc.

21. Lis et écris le mot qui convient.

En été, il fait

Le flotte sur l'

Dans le, je vois des poissons.

Le cheval au-dessus de la barrière.

Chatouille a reçu un vélo pour son anniversaire.

Cet homme porte un sur la tête.

Ludovic prend l'..... pour aller en ville.

J'ai une main droite et une main

chaud	autobus	pauvre	eau	haut	nouveau
faute	saute	bateau	chapeau	ruisseau	gauche

22. Lis les phrases et colorie le dessin en fonction des consignes.



- 1) Colorie le nez du clown en rouge.
- 2) Colorie ses chaussures en mauve.
- 3) Colorie sa veste en jaune.
- 4) Colorie son pantalon en orange.
- 5) Dessine des lignes vertes sur son chapeau.
- 6) Colorie son nœud en rose.
- 7) Colorie les six ballons : deux en mauve, un en vert, et trois en orange.
- 8) Colorie ses cheveux en brun.
- 9) Colorie les deux poches en vert foncé.
- 10) Colorie le pompon du chapeau en bleu clair.

23. Mets de l'ordre dans les phrases et recopie-les dans l'ordre.

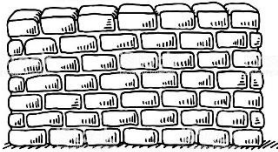













la a pomme. mordu Nina



parle une à Léo amie.

24. Écris ce qui est dessiné (selon ce que tu entends).

 <hr/>	 <hr/>	 <hr/>
 <hr/>	 <hr/>	 <hr/>
 <hr/>	 <hr/>	 <hr/>
 <hr/>	 <hr/>	 <hr/>

25. Relie le mot à l'image.

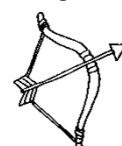
du café

un sac

une corde

un caddie

un arc




26. Dessine puis recopie les mots en attaché.

la lune _____	la rue _____	une fée _____
une île _____	un âne _____	une farde _____
sale _____	une rame _____	une vache _____

27. Relie les mots qui vont ensemble.

28. Indique le bon numéro.



un lapin

un tigre

un canari

une biche

une fourmi

une dinde

une guêpe

un poussin


une tortue

une vipère

29. Complète par an, on, in.



le b _ _ c



le mout _ _



méch _ _ t



la c _ _ fiture



le d _ _ d _ _



d _ _ s



le moul _ _



la m _ _ che



la br _ _ che



du v _ _



la pl _ _ te



dev _ _ t



le sap _ _



le p _ _ t



le touch _ _

30. Réalise une enquête par jour.

ENQUETE 6

« Si vous ne vous lavez pas les dents mieux que ça, vous aurez encore des ennuis et vous devrez revenir me voir ! »

⇒ Quel est le métier de la personne qui parle ?

ENQUETE 7

« Je voudrais une baguette et deux croissants, s'il vous plaît madame », demande poliment Elisa.

⇒ Dans quel magasin se trouve cette dame ?

ENQUETE 8

« Les jumeaux, à table, le repas est prêt ! Papa est déjà installé, il meurt de faim ! », crie maman.

⇒ Combien de personnes vont manger ?

ENQUETE 9

Léa est allongée, bien au chaud sous sa couverture. Avant de s'endormir, elle vérifie que le réveil est bien programmé pour demain.

⇒ Où se trouve Léa ?

ENQUETE 10

Orazio a eu peur pendant le décollage. Il ose ouvrir les yeux et regarder par la fenêtre : il voit des nuages en-dessous de lui.

⇒ Où se trouve Orazio ?

ENQUETE 11

« Je dois raccrocher, ma batterie est déchargée. Je te rappelle demain, promis ! »

Et Ella remet l'objet dans son sac.


⇒ Quel est cet objet ?

ENQUETE 12

Hugo a ramassé des marrons, Alessio a trouvé des jolis champignons et Leny a vu un écureuil grimper dans un arbre.

⇒ Où se trouvent les enfants ?

31. Pour rejoindre la girafe, Zabou traverse la rivière aux crocodiles.
Il doit sauter de pierre en pierre en respectant l'ordre des jours.
Trace le chemin qu'il doit suivre.

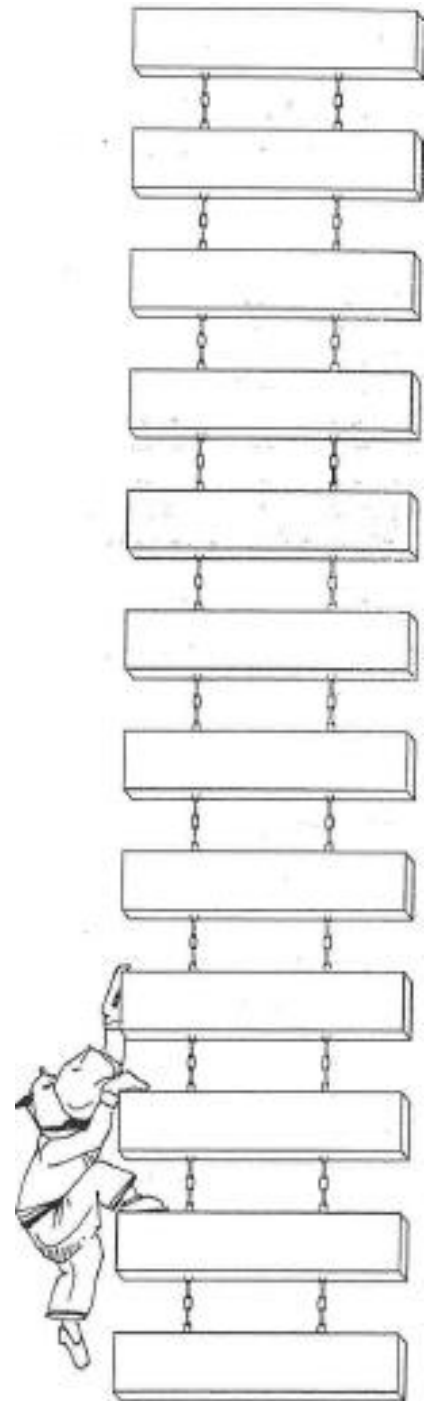


32. Complète l'échelle des mois de l'année (tu peux t'aider de ta farde verte).
Ensuite, réponds aux questions.

• Colorie :

- en vert les mois des grandes vacances,
- en bleu le mois dans lequel nous sommes aujourd'hui,
- en rouge le mois de la rentrée,
- en jaune le mois au cours duquel se termine l'année scolaire.

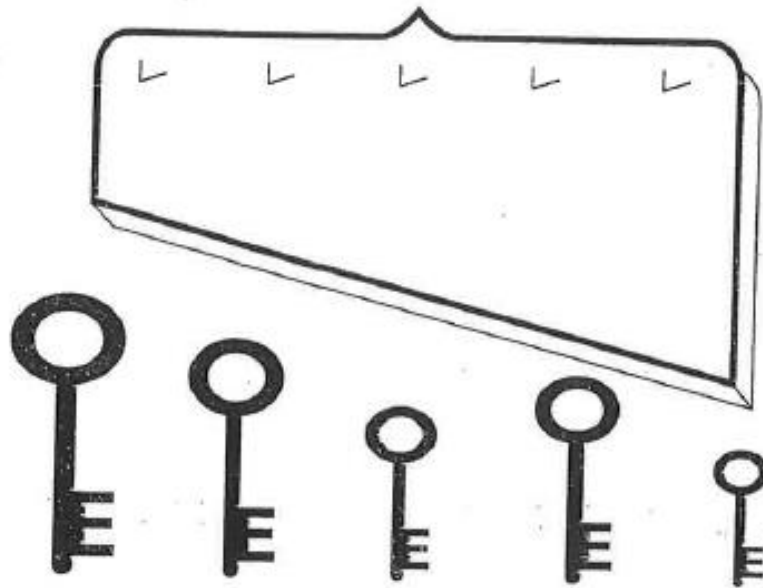
- Quel est le 2^{ème} mois de l'année ?
- Quel est le 11^{ème} mois de l'année ?
- Quel est le 6^{ème} mois de l'année ?
- Quel est le 9^{ème} mois de l'année ?
- Dans une année, il y a mois.
- Après le mois de mars, c'est le mois d'.....
- Avant le mois de février, c'est le mois de




33. Indique l'heure.



34. Classe les clés de la plus courte à la plus longue. Relie chaque clé à son crochet.



35. Réponds par **plus court** ou **plus long** (observe bien les images).




- Le bonbon est que la sucette.
- Le cornet de glace est que l'œuf en chocolat.
- L'œuf en chocolat est que la sucette.
- Le berlingot de jud est que le cornet de glace.
- Le cornet de glace est que le berlingot de jus.

36. Pour sa fête, Louis prépare son chapeau d'indien.

Colorie les plumes en sachant que :

- la plume bleue est la plus longue,
- la plume verte est la plus courte,
- la plume jaune est un peu plus petite que la bleue,
- la plume rouge est plus longue que la mauve.



37. Trace le trajet de Zabou vers la lune en respectant les consignes.

