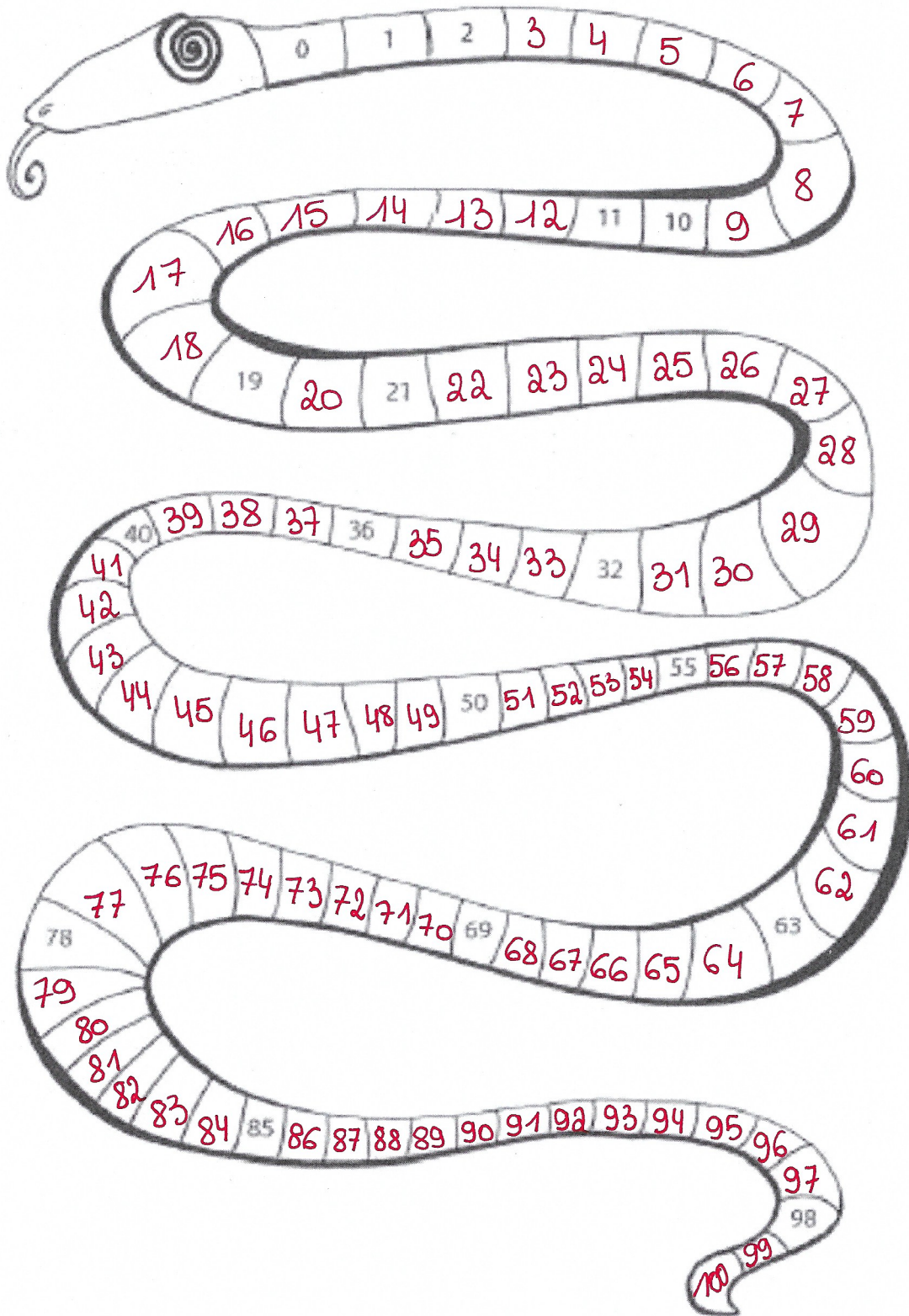
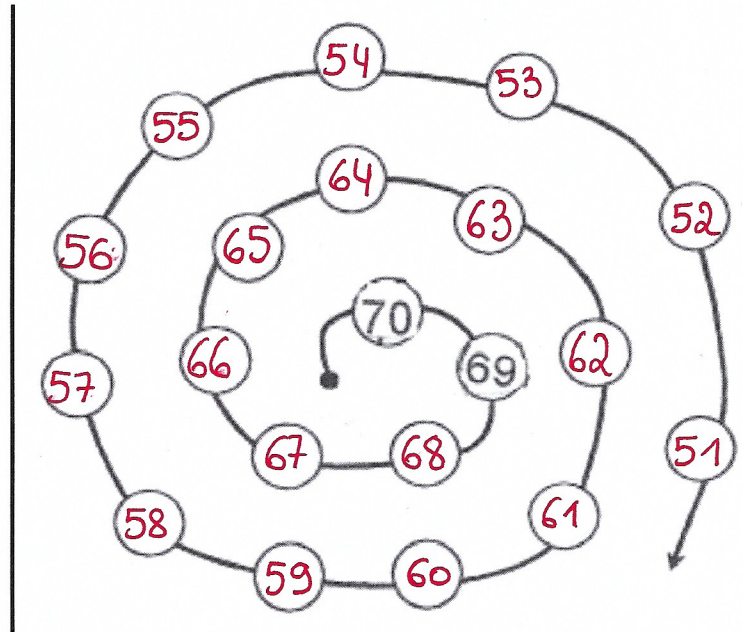
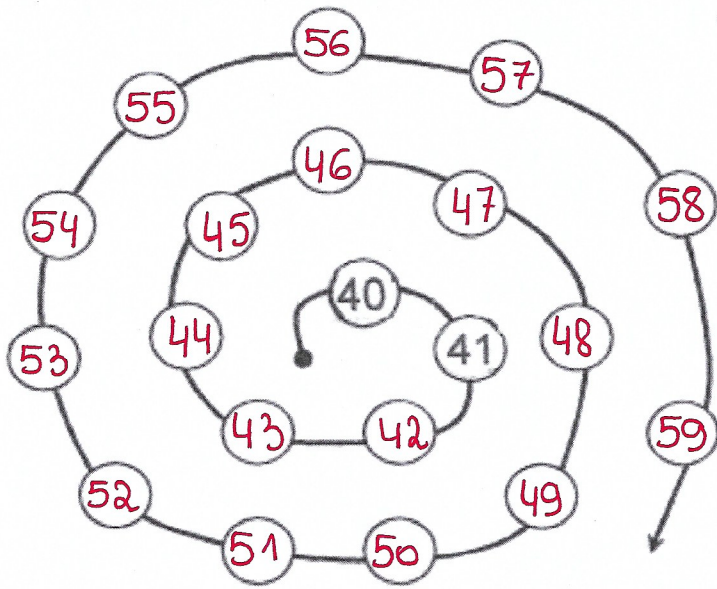


Dossier n°4


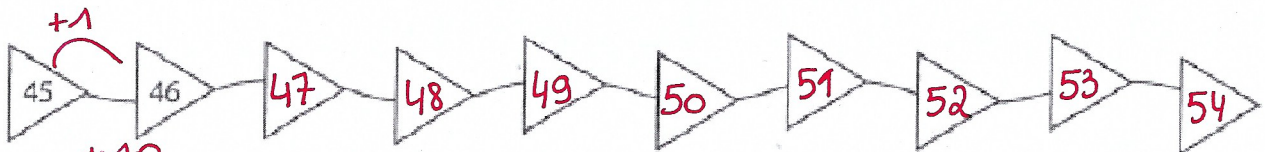
1. Complète le chemin des nombres.




2. Complète.



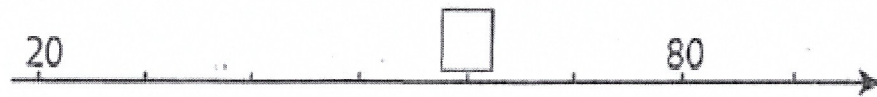
3. Complète les colliers de perles.



4. Colorie la case qui correspond au nombre manquant.




83 84 85



50 60 70



70 60 80



68 69 70

5. Dessine les étiquettes pour former le nombre demandé.

65	60	5
48	40	8
73	70	3
85	80	5
31	30	1
54	50	4
29	20	9
17	10	7
44	40	4
62	60	2

96	90	6	
29	20	9	
84	80	4	
153	100	50	3
186	100	80	6
162	100	60	2
195	100	90	5
127	100	20	7
141	100	40	1
58	50	8	

6. Quel nombre vas-tu construire ?

30 7	37
60 2	62
4 90	94
6 80	86
10 3	13
50 1	51
6 20	26
40 6	46
30 2	32
5 70	75

60 8	68
80 9	89
3 30	33
100 8 60	168
40 100 3	143
5 50 100	155
90 100 1	191
70 4 100	174
30 100 9	139
2 80 100	182

7. À l'aide des étiquettes, construis des nombres.

5 7 3 80 100

85	87	83	105	107
103	180	185	187	183

1 9 6 50 100

51	59	56	151	159
156	101	109	106	150

2 8 4 30 100

32	38	34	130	132
138	134	102	108	104

8. Barre les nombres que tu ne peux pas former avec ces étiquettes.










50 8 20 1 100 6

158	185	822	161	126
12	210	58	156	108
105	120	85	1058	21



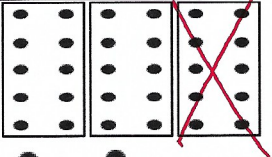





4 8 3 50 100

158	52	173	150	108
57	58	104	154	183
153	103	105	53	54







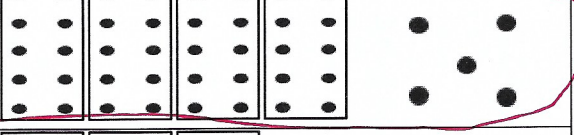
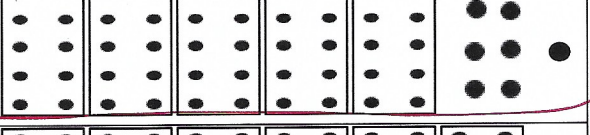

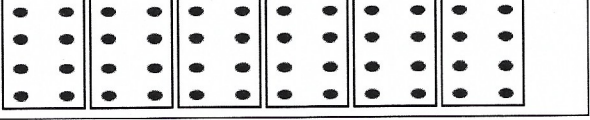
9. Ecris le nombre représenté.

 <p>33</p>	 <p>24</p>	 <p>64</p>
 <p>45</p>	 <p>41</p>	 <p>16</p>
 <p>75</p>	 <p>58</p>	 <p>20</p>

10. Barre ou ajoute pour avoir la quantité demandée.

  <div style="border: 1px solid black; border-radius: 50%; width: 40px; height: 40px; display: flex; align-items: center; justify-content: center; margin: 0 auto;">46</div>	  <div style="border: 1px solid black; border-radius: 50%; width: 40px; height: 40px; display: flex; align-items: center; justify-content: center; margin: 0 auto;">25</div>	  <div style="border: 1px solid black; border-radius: 50%; width: 40px; height: 40px; display: flex; align-items: center; justify-content: center; margin: 0 auto;">41</div>	  <div style="border: 1px solid black; border-radius: 50%; width: 40px; height: 40px; display: flex; align-items: center; justify-content: center; margin: 0 auto;">89</div>
--	--	---	--

11. Entoure les cases qui sont correctes.

<p>36</p> 	<p>94</p> 
<p>54</p> 	<p>21</p> 
<p>18</p> 	<p>82</p> 
<p>45</p> 	<p>57</p> 
<p>63</p> 	<p>70</p> 

12. Complète.

4 D et 8 U = 48

8 D et 2 U = 82

4 U et 6 D = 64

3 U et 9 D = 93

5 U et 6 D = 65

2 U et 5 D = 52

7 D et 1 U = 71

5 D et 0 U = 50

3 D et 3 U = 33

5 U et 7 D = 75

1 U et 2 D = 21

8 U et 2 D = 28

9 U et 6 D = 69

1 D et 4 U = 14

5 U et 3 D = 35

7 U et 3 D = 37

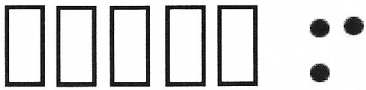











5 U et 3 D = 35

4 D et 1 U = 41

9 D et 8 U = 98

0 U et 8 D = 80

13. Complète le tableau en suivant l'exemple.

5 D et 3 U		50 et 3	= 53
7 D et 3 U		70 et 3	= 73
4 U et 6 D		60 et 4	= 64
8 U et 3 D		30 et 8	= 38
4 D et 0 U		40 et 0	= 40
7 U et 3 D		7 et 3	= 10
9 U et 4 D		40 et 9	= 49
3 D et 3 U		30 et 3	= 33
4 D et 3 D		40 et 30	= 70
2 U et 8 D		80 et 2	= 82
2 D et 4 D		20 et 40	= 60
0 U et 3 D		30 et 0	= 30

14. Complète.

$75 = \underline{7} \text{ D et } \underline{5} \text{ U}$

$43 = \underline{3} \text{ U et } \underline{4} \text{ D}$

$17 = \underline{1} \text{ D et } \underline{7} \text{ U}$

$95 = \underline{5} \text{ U et } \underline{9} \text{ D}$

$59 = \underline{9} \text{ U et } \underline{5} \text{ D}$

$64 = \underline{6} \text{ D et } \underline{4} \text{ U}$

$81 = \underline{1} \text{ U et } \underline{8} \text{ D}$

$54 = \underline{5} \text{ D et } \underline{4} \text{ U}$

$28 = \underline{2} \text{ D et } \underline{8} \text{ U}$

$30 = \underline{0} \text{ U et } \underline{3} \text{ D}$

$96 = \underline{9} \text{ D et } \underline{6} \text{ U}$

$24 = \underline{4} \text{ U et } \underline{2} \text{ D}$

15. Entoure la réponse qui convient.

2 dizaines et 5 unités 52 (25) 55	8 unités et 6 dizaines 86 88 (68)	3 dizaines 3 (30) 300
4 unités et 9 dizaines 49 44 (94)	1 dizaine et 7 unités 71 (17) 11	5 dizaines 500 5 (50)
6 unités et 7 dizaines (76) 67 77	3 dizaines et 6 unités 33 63 (36)	8 dizaines et 1 unité 88 (81) 18

16. Invente un nombre à 2 chiffres dans lequel : *(plusieurs possibilités)*

Le chiffre des dizaines est 5 → 50 ou 51 ou ...

Le chiffre des unités est 0 → 10 ou 20 ou ...

Le chiffre des unités est 9 → 19 ou 29 ou ...

Le chiffre des dizaines est 1 → 10 ou 11 ou ...

Le chiffre des dizaines est 2 → 20 ou 21 ou ...

Le chiffre des unités est 6 → 16 ou 26 ou ...

Le chiffre des dizaines est 4 → 40 ou 41 ou ...

Le chiffre des unités est 3 → 13 ou 23 ou ...

17. Calcule (regarde bien ce qui est demandé).

$$50 + 8 = 58$$

$$10 + 6 = 16$$

$$8 + 40 = 48$$

$$6 + 60 = 66$$

$$4 + 40 = 44$$

$$3 + 30 = 33$$

$$70 + 5 = 75$$

$$60 + 7 = 67$$

$$80 + 5 = 85$$

$$3 + 20 = 23$$

$$8 + 20 = 28$$

$$90 + 2 = 92$$

$$30 + 6 = 36$$

$$5 + 40 = 45$$

$$100 + 0 = 100$$

$$30 + 1 = 31$$

$$0 + 70 = 70$$

$$6 + 10 = 16$$

$$8 + 90 = 98$$

$$7 + 50 = 57$$

$$1 + 70 = 71$$

$$5 + 50 = 55$$

$$2 + 20 = 22$$








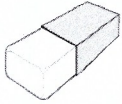


$$9 + 50 = 59$$

$$70 + 9 = 79$$

$$10 + 5 = 15$$

$$60 + 3 = 63$$

18. Complète avec les mots (ajoute le mot « et » entre les mots).


		<u>une pomme et une poire</u>
		<u>un chat et un chien</u>
		<u>une voiture et un camion</u>
		<u>un crayon et une gomme</u>
		<u>un coq et une poule</u>

une gomme	un camion	un crayon	une pomme	un chien
un coq	un chat	une poule	une voiture	une poire

19. Lis les phrases et écris « vrai » ou « faux ».

Il y a 5 garçons dans notre classe.	<u>faux...</u>
L'éléphant utilise sa trompe pour manger.	<u>vrai.....</u>
Le mouton a deux pattes.	<u>faux...</u>
À l'école, on utilise des crayons.	<u>vrai.....</u>
En automne, les feuilles tombent.	<u>vrai.....</u>
Le plumier est un animal.	<u>faux...</u>

20. Lis les phrases et écris le prénom de chaque enfant sur son banc.



- Alexis lève le bras.
- Ilario porte des lunettes.
- Tom a une latte dans son cartable.
- Imrane est assis derrière Olivia qui a un nœud dans les cheveux.
- Emilie est assise devant Ilario, elle a une tresse.
- Sélina est assise devant Alexis.
- Cassy est assise au premier rang.
- Dalia est seule sur son banc.

21. Lis et écris le mot qui convient.

En été, il fait ... chaud

Le ... bateau flotte sur l' ... eau

Dans le ... ruisseau, je vois des poissons.

Le cheval ... saute au-dessus de la barrière.

Chatouille a reçu un ... nouveau vélo pour son anniversaire.

Cet homme porte un ... chapeau sur la tête.

Ludovic prend l' ... autobus pour aller en ville.

J'ai une main droite et une main ... gauche

chaud	autobus	pauvre	eau	haut	nouveau
faute	saute	bateau	chapeau	ruisseau	gauche

22. Lis les phrases et colorie le dessin en fonction des consignes.



- 1) Colorie le nez du clown en rouge.
- 2) Colorie ses chaussures en mauve.
- 3) Colorie sa veste en jaune.
- 4) Colorie son pantalon en orange.
- 5) Dessine des lignes vertes sur son chapeau.
- 6) Colorie son nœud en rose.
- 7) Colorie les six ballons : deux en mauve, un en vert, et trois en orange.
- 8) Colorie ses cheveux en brun.
- 9) Colorie les deux poches en vert foncé.
- 10) Colorie le pompon du chapeau en bleu clair.

23. Mets de l'ordre dans les phrases et recopie-les dans l'ordre.



la a pomme. mordu Nina
4 2 5 3 1

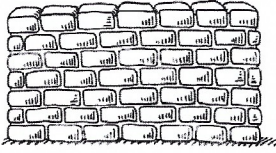











Nina a mordu la pomme.



parle une à Léo amie.
2 4 3 1 5

Léo parle à une amie.

24. Écris ce qui est dessiné (selon ce que tu entends).

 <u>mur</u>	 <u>radio</u>	 <u>moto</u>
 <u>fil</u>	 <u>os</u>	 <u>livre</u>
 <u>vélo</u>	 <u>vis</u>	 <u>domino</u>
 <u>lion</u>	 <u>tomate</u>	 <u>voiture</u>

25. Relie le mot à l'image.

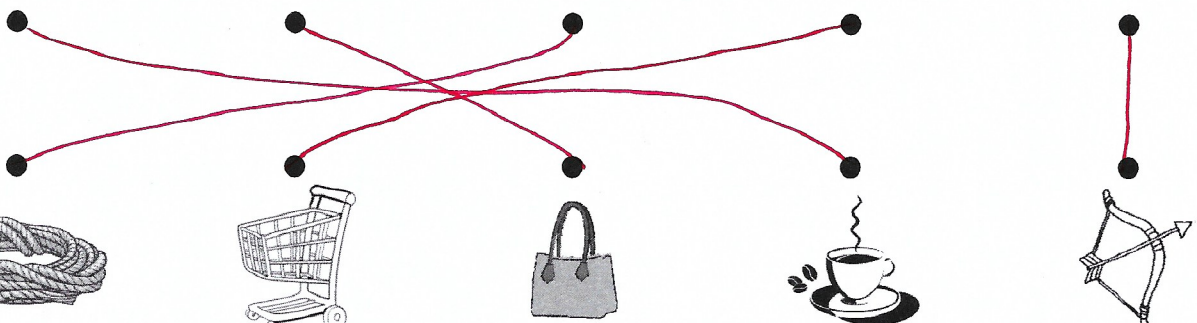
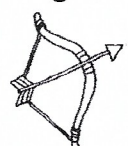

du café

un sac


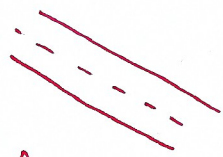





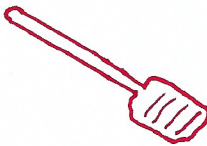

une corde

un caddie

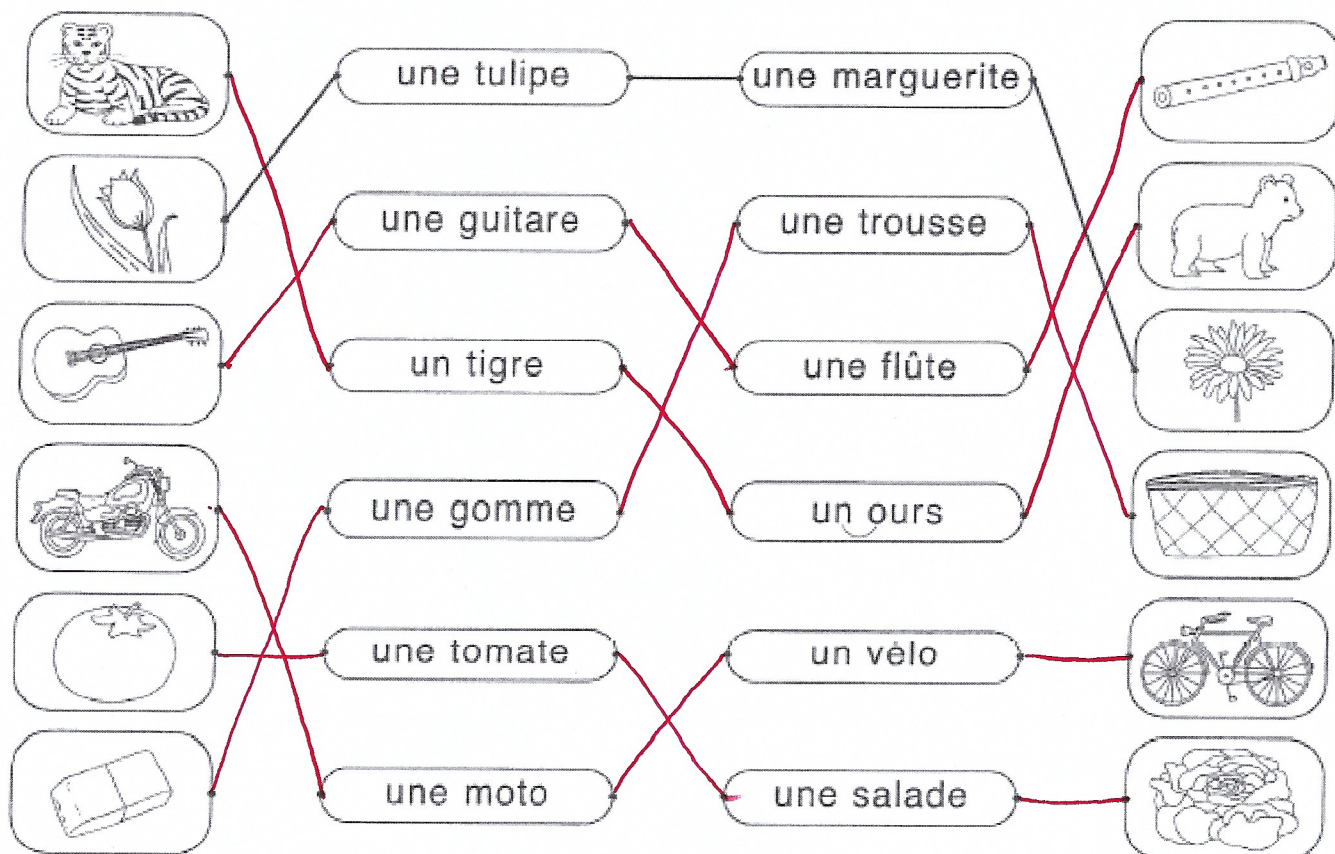
un arc




26. Dessine puis recopie les mots en attaché.

<p>la lune</p>  <p><u>la lune</u></p>	<p>la rue</p>  <p><u>la rue</u></p>	<p>une fée</p>  <p><u>une fée</u></p>
<p>une île</p>  <p><u>une île</u></p>	<p>un âne</p>  <p><u>un âne</u></p>	<p>une farde</p>  <p><u>une farde</u></p>
<p>sale</p>  <p><u>sale</u></p>	<p>une rame</p>  <p><u>une rame</u></p>	<p>une vache</p>  <p><u>une vache</u></p>

27. Relie les mots qui vont ensemble.



28. Indique le bon numéro.



un lapin

6

un tigre

1

un canari

8

une biche

10

une fourmi

4

une dinde

9

une guêpe

2

un poussin

7

une tortue

3


une vipère

5

29. Complète par an, on, in.



le banc



le mouton



méchant



la confiture



le dindon



dans



le moulin



la manche



la branche



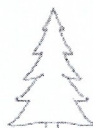
du vin




la plante



devant



le sapin



le pont



le bouchon

30. Réalise une enquête par jour.

ENQUETE 6

« Si vous ne vous lavez pas les dents mieux que ça, vous aurez encore des ennuis et vous devrez revenir me voir ! »

⇒ Quel est le métier de la personne qui parle ? *un dentiste*.....

ENQUETE 7

« Je voudrais une baguette et deux croissants, s'il vous plaît madame », demande poliment Elisa.

⇒ Dans quel magasin se trouve cette dame ? *une boulangerie*

ENQUETE 8

« Les jumeaux, à table, le repas est prêt ! Papa est déjà installé, il meurt de faim ! », crie maman.

⇒ Combien de personnes vont manger ? *4*.....

ENQUETE 9

Léa est allongée, bien au chaud sous sa couverture. Avant de s'endormir, elle vérifie que le réveil est bien programmé pour demain.

⇒ Où se trouve Léa ? *dans son lit ou sa chambre*

ENQUETE 10

Orazio a eu peur pendant le décollage. Il ose ouvrir les yeux et regarder par la fenêtre : il voit des nuages en-dessous de lui.

⇒ Où se trouve Orazio ? *dans un avion*.....

ENQUETE 11

« Je dois raccrocher, ma batterie est déchargée. Je te rappelle demain, promis ! »

Et Ella remet l'objet dans son sac.

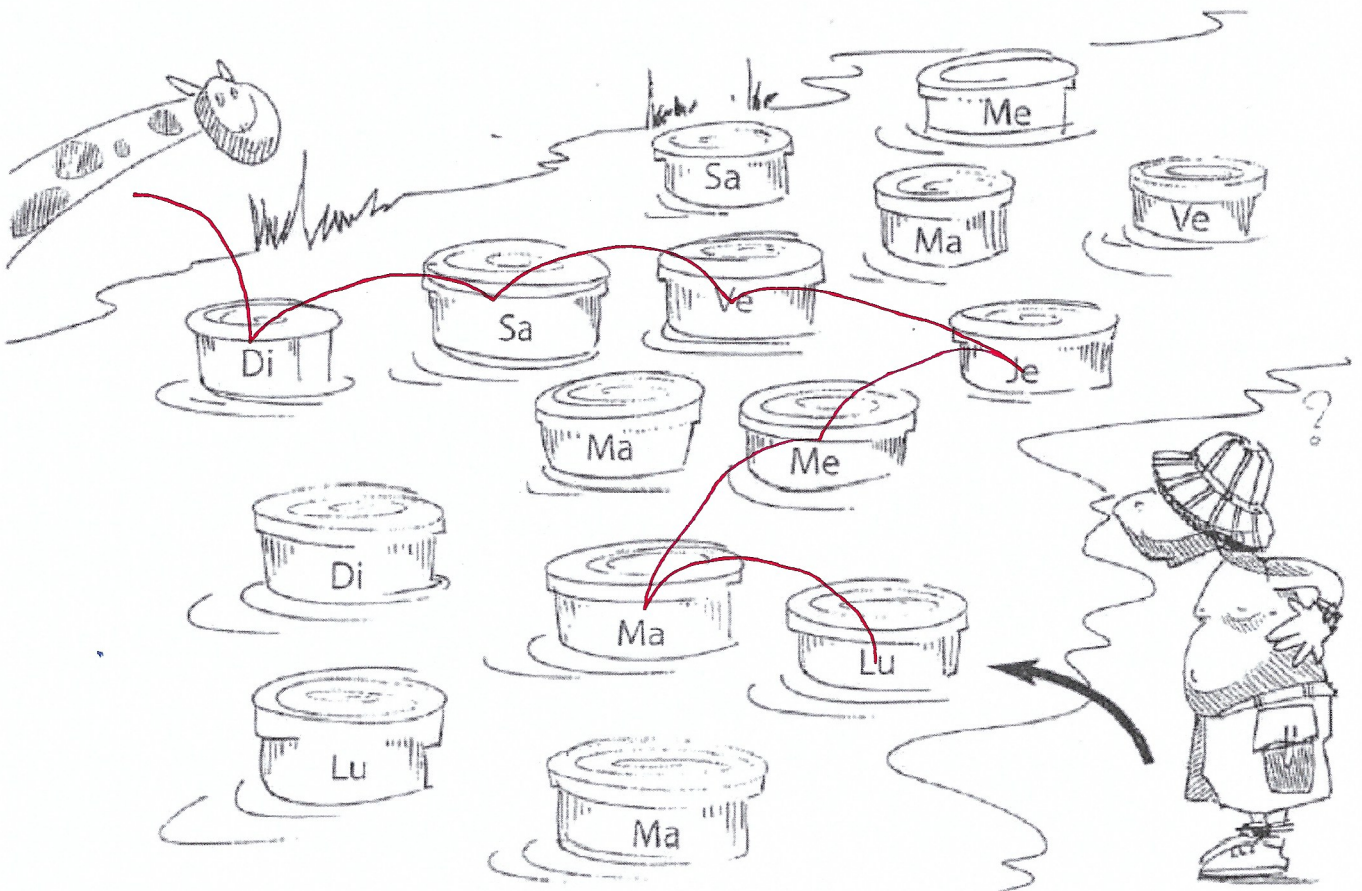
⇒ Quel est cet objet ? *un téléphone / gsm.*

ENQUETE 12

Hugo a ramassé des marrons, Alessio a trouvé des jolis champignons et Leny a vu un écureuil grimper dans un arbre.

⇒ Où se trouvent les enfants ? *dans un bois / au parc*

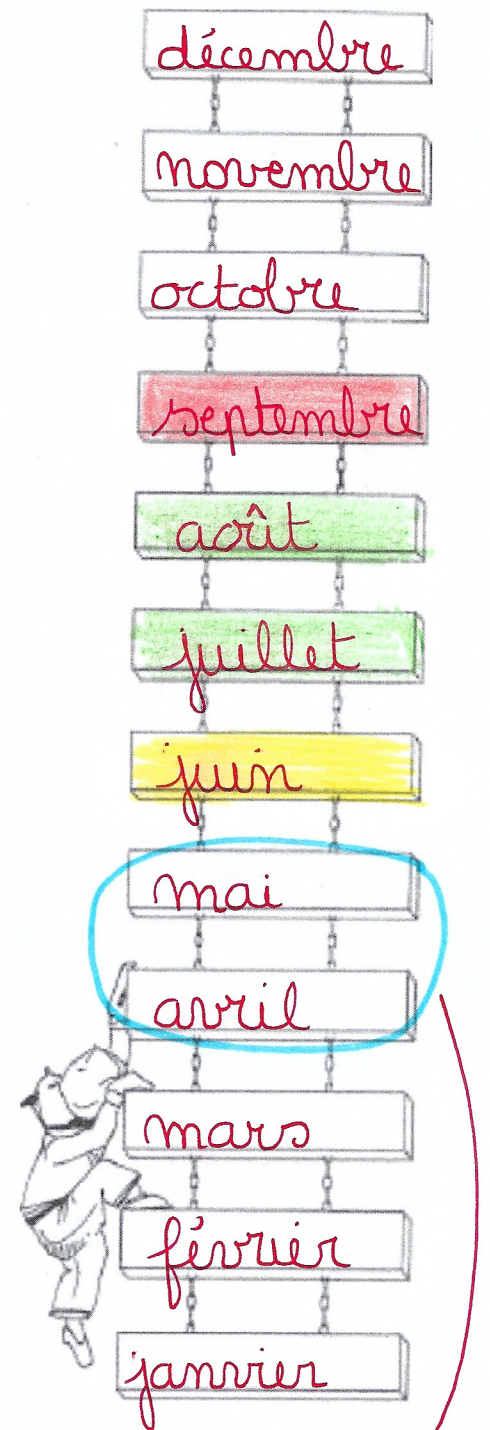
31. Pour rejoindre la girafe, Zabou traverse la rivière aux crocodiles.
Il doit sauter de pierre en pierre en respectant l'ordre des jours.
Trace le chemin qu'il doit suivre.



32. Complète l'échelle des mois de l'année (tu peux t'aider de ta farde verte).
Ensuite, réponds aux questions.

• Colorie :


- en vert les mois des grandes vacances,
- en bleu le mois dans lequel nous sommes aujourd'hui,
- en rouge le mois de la rentrée,
- en jaune le mois au cours duquel se termine l'année scolaire.



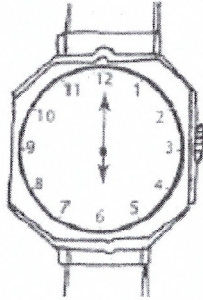
- Quel est le 2^{ème} mois de l'année ? ..février.....
- Quel est le 11^{ème} mois de l'année ? ..novembre.....
- Quel est le 6^{ème} mois de l'année ? ..juin.....
- Quel est le 9^{ème} mois de l'année ? ..septembre.....
- Dans une année, il y a ..12..... mois.
- Après le mois de mars, c'est le mois d'..avril.....
- Avant le mois de février, c'est le mois de ..janvier.....

va dépendre
de quand
l'exercice a été
fait.


33. Indique l'heure.




5h00 ou 17h00



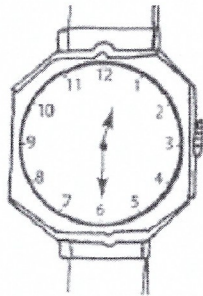
6h00 ou 18h00




12h00 ou 00h00 ou
midi ou minuit



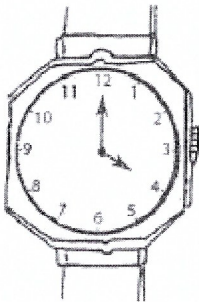
1h30 ou 13h30




12h30 ou 00h30




8h30 ou 20h30




4h00 ou 16h00




1h00 ou 13h00



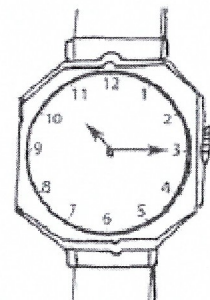
2h00 ou 14h00



12h15 ou 00h15

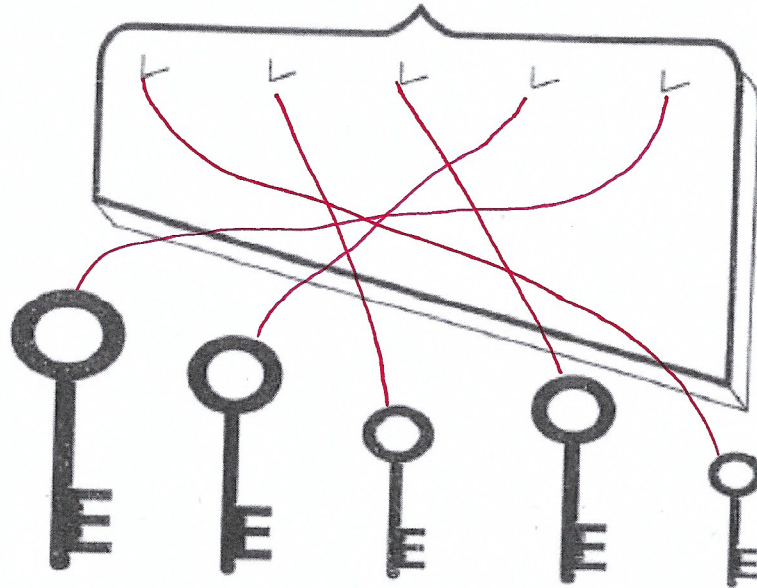


4h30 ou 16h30




10h15 ou 22h15

34. Classe les clés de la plus courte à la plus longue. Relie chaque clé à son crochet.



35. Réponds par plus court ou plus long (observe bien les images).



- Le bonbon est *plus court*..... que la sucette.
- Le cornet de glace est *plus long*... que l'œuf en chocolat.
- L'œuf en chocolat est *plus court*.... que la sucette.
- Le berlingot de jus est *plus long*..... que le cornet de glace.
- Le cornet de glace est *plus court*.. que le berlingot de jus.

36. Pour sa fête, Louis prépare son chapeau d'indien.

Colorie les plumes en sachant que :

- la plume bleue est la plus longue,
- la plume verte est la plus courte,
- la plume jaune est un peu plus petite que la bleue,
- la plume rouge est plus longue que la mauve.



37. Trace le trajet de Zabou vers la lune en respectant les consignes.

