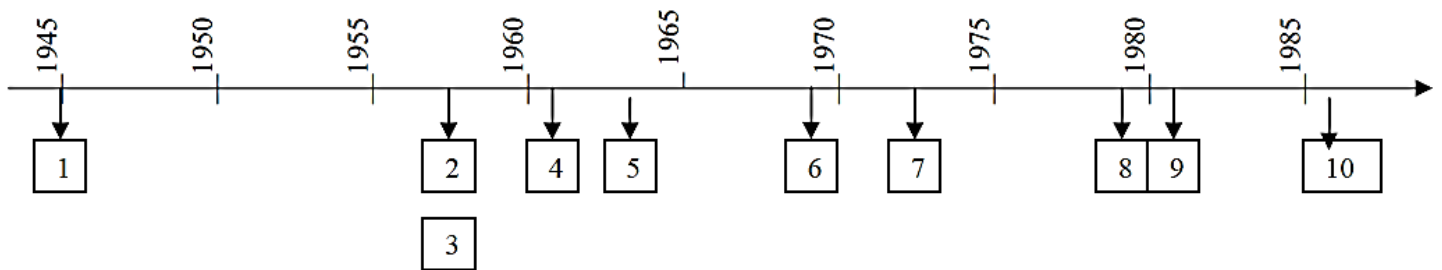


Révisions CTE : éveil historique

- 1 Remets dans l'ordre les événements de la conquête spatiale.
Replace les chiffres situés sur la ligne du temps dans les cercles situés
après des textes.

L'aventure de l'homme dans l'espace n'en est qu'à ses débuts.
La conquête spatiale a commencé il y a seulement une cinquantaine d'années.



- O En novembre 1957, c'est au tour d'une chienne, Laïka, de s'envoler dans l'espace. Elle survit 7 jours dans une petite capsule.

- O Dès la fin de la seconde guerre mondiale (1940-1945), la conquête spatiale fait l'objet d'une concurrence acharnée entre les Russes et les Américains.



- O Les Russes deviennent les spécialistes des vols prolongés dans l'espace. A partir de 1986, des cosmonautes se relaient à bord de la station habitable Mir. Le Russe Poliakov y séjourne 442 jours.

- O Dans la course à l'espace, les Russes gagnent la première manche. Le 4 octobre 1957, ils lancent le premier satellite dans l'espace. Il s'appelle Spoutnik et tourne autour de la Terre en émettant le son «bip-bip».




- O Dès 1973, les Américains et les Russes organisent des vols d'étude en orbite terrestre. A bord de vaisseaux ou de stations qui tournent autour de la Terre, ils réalisent des expériences dans l'espace.

O La première femme dans l'espace s'appelle Valentina Terechkova. En 1963, cette Russe effectue 48 révolutions (rotations) autour de la



O En 1981, les Américains expédient Columbia, la première navette spatiale réutilisable. Elle décolle sur le dos d'une fusée et elle atterrit comme un avion. Grâce aux navettes, les mécaniciens de l'espace peuvent aller réparer les engins en panne (satellites, sondes, ...).

O Les Européens se lancent aussi dans l'aventure spatiale. Ils mettent au point une fusée très performante. Elle s'appelle Ariane et elle s'élève pour la première fois dans le ciel en 1979.



O Les Américains sont très jaloux des exploits des Russes. Les Etats-Unis lancent un grand programme pour atteindre les premiers la Lune. C'est le programme Apollo. Le 21 juillet 1969, l'Américain Neil Armstrong met le pied sur la Lune.



O Le 12 avril 1961, Yuri Gagarine devient le premier cosmonaute. Pour la première fois, un homme effectue un vol spatial. A bord du vaisseau Vostok I, il accomplit le tour de la Terre en moins de deux heures.



2

Entoure la bonne réponse.

La Belgique est **une république – une royauté.**

3

Complète à partir de l'arbre généalogique de la famille royale (Portfolio Document 1).

- A. Le mari de Claire , c'est : _____
- B. Le père d'Astrid , c'est : _____
- C. La grand-mère de Nicolas , c'est : _____
- D. La femme de Philippe , c'est : _____
- E. Albert et Paola ont __ petits-enfants.
- F. Une des cousines de Gabriel s'appelle : _____

4

Observe les documents et indique la lettre du document qui correspond à :

● un écrit



● une sculpture



● une peinture



A -



B -



C -

On y est à l'abri et en sécurité. Mais si l'on n'y prend pas garde, la maison peut être le lieu de tous les dangers.


Sauver des vies en s'amusant

Vous connaissez « Secouris » ? C'est un jeu de société intelligent pour apprendre en famille les gestes qui sauvent. Le plateau représente la France: chaque joueur se déplace de ville en ville en répondant à des questions: comment réagir face à une brûlure? Comment éviter les dangers du soleil ou de la montagne? Quels sont les numéros d'urgence? Ce jeu a reçu plein de prix, dont trois au concours Lépine 2004.

D -



E -



5 Observe le calendrier du mois de juillet que voici :

LU	MA	ME	JE	VE	SA	DI

a) Imagine que nous sommes le **mercredi 15 juillet**

Écris cette date dans la bonne case puis **complète tous les autres numéros**
(travaille au crayon)

b) **Te souviens-tu** à quelle date de l'année ont lieu les événements suivants ?

- * La fête nationale belge : le
- * L'Armistice de la 1^{ère} guerre mondiale : le
- * La fête du travail : le
- * La fête de la Communauté Française : le

6 Trois de ces images datent de 1969, l'année où l'homme marcha pour la 1^{ère} fois sur la Lune, et trois datent de 2009.

Ecris 1969 dans les 3 étiquettes des images qui datent de cette année-là.





7

Lis attentivement et complète.




L'astronaute de l'ESA **Frank De Winne** va devenir le premier commandant européen de la Station spatiale internationale (ISS). De nationalité belge, il a embarqué en **mai 2009** à bord d'un vaisseau Soyouz à destination de l'ISS en compagnie du cosmonaute russe Roman Romanenko et de l'astronaute Robert Thirsk de l'Agence spatiale canadienne, ce qui portera pour la première fois à six le nombre d'occupants de la Station.

Au cours des quatre premiers mois, Frank De Winne exercera les fonctions d'ingénieur de vol au sein de l'équipage de l'Expédition 20. A la faveur de la rotation de trois des six membres de l'équipage prévue en octobre, De Winne prendra les commandes de l'Expédition 21 jusqu'à son retour sur Terre en **novembre 2009**, succédant ainsi au commandant Guennady Padalka de l'Expédition 20.

Combien de mois Frank de Winne restera-t-il dans l'espace ? Entoure la réponse qui convient.

- 4 mois
- 6 mois
- 8 mois



Dirk Frimout est le premier Belge à s'envoler dans l'espace le **24 mars 1992**.

Sachant que Dirk Frimout est né le **21/03/1941** à Poperinge; indique son âge lors de son premier vol spatial :

8

Voici trois types de calendrier qui ont existé. Relie chaque image à un type de calendrier, et chaque calendrier à un texte.

DANS L'HISTOIRE...



LE CALENDRIER ÉGYPTIEN (2780 AV. J.-C.)

Au 16e siècle, je corrige le calendrier de César. Mes collaborateurs constatent qu'on a pris de l'avance par rapport au temps exact que met la Terre à tourner autour du Soleil. Aujourd'hui, vous utilisez mon calendrier à peu près partout dans le monde.
Le pape Grégoire XIII



LE CALENDRIER GRÉGORIEN (1582)

Il y a presque 5000 ans, nous inventons le premier calendrier. Nous divisons l'année en 365 jours et en 12 mois. Notre calendrier compte 3 saisons de 4 mois: celle où le Nil inondait les terres, celle pour semer et celle pour récolter.
Un agriculteur égyptien



LE CALENDRIER JULIEN (63 AV. J.-C.)

Peu avant la naissance de Jésus-Christ, je garde le système égyptien mais je donne des noms aux mois. Ces noms, vous les utilisez toujours aujourd'hui. Ils sont inspirés des dieux romains: Janus, Februarius, Mars...
Jules César, général romain

Observe le calendrier et réponds aux questions.

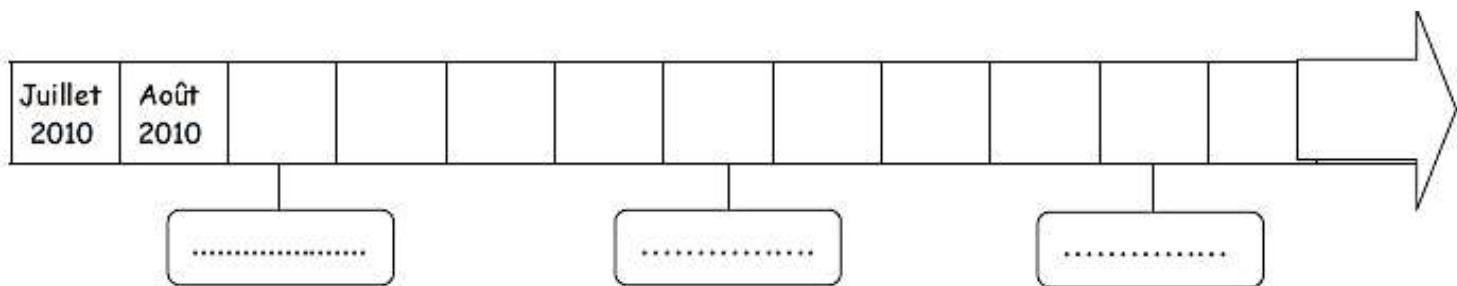
a) Sur ce calendrier de l'année scolaire 2010-2011 ...

- ❖ colorie en rouge le nom du mois actuel.
- ❖ colorie en vert le 1er jour de l'année civile.
- ❖ colorie en jaune le dernier jour d'école.

Septembre 2010	Octobre 2010	Novembre 2010
Di Lu Ma Me Je Ve Sa 1 2 3 4 5 6 7 8 9 10 11 12 13 14 15 16 17 18 19 20 21 22 23 24 25 26 27 28 29 30	Di Lu Ma Me Je Ve Sa 1 2 3 4 5 6 7 8 9 10 11 12 13 14 15 16 17 18 19 20 21 22 23 24 25 26 27 28 29 30 31	Di Lu Ma Me Je Ve Sa 1 2 3 4 5 6 7 8 9 10 11 12 13 14 15 16 17 18 19 20 21 22 23 24 25 26 27 28 29 30
Décembre 2010	Janvier 2011	Février 2011
Di Lu Ma Me Je Ve Sa 1 2 3 4 5 6 7 8 9 10 11 12 13 14 15 16 17 18 19 20 21 22 23 24 25 26 27 28 29 30 31	Di Lu Ma Me Je Ve Sa 1 2 3 4 5 6 7 8 9 10 11 12 13 14 15 16 17 18 19 20 21 22 23 24 25 26 27 28 29 30 31	Di Lu Ma Me Je Ve Sa 1 2 3 4 5 6 7 8 9 10 11 12 13 14 15 16 17 18 19 20 21 22 23 24 25 26 27 28
Mars 2011	Avril 2011	Mai 2011
Di Lu Ma Me Je Ve Sa 1 2 3 4 5 6 7 8 9 10 11 12 13 14 15 16 17 18 19 20 21 22 23 24 25 26 27 28 29 30 31	Di Lu Ma Me Je Ve Sa 1 2 3 4 5 6 7 8 9 10 11 12 13 14 15 16 17 18 19 20 21 22 23 24 25 26 27 28 29 30	Di Lu Ma Me Je Ve Sa 1 2 3 4 5 6 7 8 9 10 11 12 13 14 15 16 17 18 19 20 21 22 23 24 25 26 27 28 29 30 31
Juin 2011	Juillet 2011	Août 2011
Di Lu Ma Me Je Ve Sa 1 2 3 4 5 6 7 8 9 10 11 12 13 14 15 16 17 18 19 20 21 22 23 24 25 26 27 28 29 30	Di Lu Ma Me Je Ve Sa 1 2 3 4 5 6 7 8 9 10 11 12 13 14 15 16 17 18 19 20 21 22 23 24 25 26 27 28 29 30 31	Di Lu Ma Me Je Ve Sa 1 2 3 4 5 6 7 8 9 10 11 12 13 14 15 16 17 18 19 20 21 22 23 24 25 26 27 28 29 30 31

b) En observant le calendrier, complète ces phrases.

- ❖ Pâques (le 24/04/2011) tombait un(nom du jour)
- ❖ Noël (le 25/12/2010) tombait un (nom du jour)
- ❖ Combien de samedis comptait le mois d'avril ?
- ❖ Combien de semaines complètes comptait le mois de février ?
- ❖ Pourquoi certaines dates sont-elles en gris ? Car ce sont les



a) Ecris le prénom des enfants suivants dans les cases sur les pointillés ci-dessus en fonction de leur mois d'anniversaire.

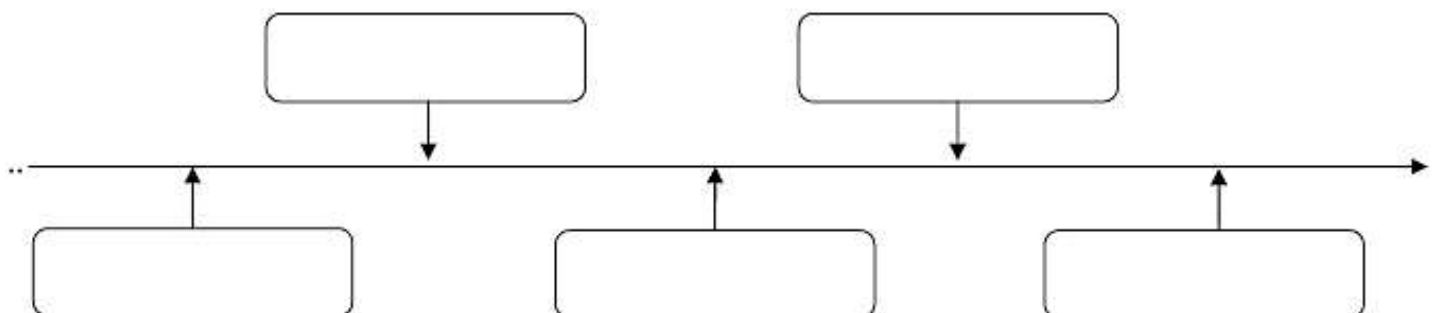
Axel a eu son anniversaire au mois de mai.
Benoît a eu son anniversaire au mois de septembre.
Jacques a fêté son anniversaire au mois de janvier.

b) Sur la ligne du temps, colorie la case du mois durant lequel ces fêtes ont lieu.
 (Respecte les couleurs)

L'Armistice 1914-1918 (le 11/11) : colorie en bleu.
 La fête nationale belge (le 21/07) : colorie en jaune.
 La fête de la Communauté Française de Belgique (le 27/09) : colorie en rouge.
 La fête des mères : colorie en vert.

Sur la ligne du temps ci-dessous, recopie dans les cases, le prénom des enfants du plus âgé (à gauche) au plus jeune (à droite).

Guillaume, né le 20 décembre 2002	Nathalie, née le 4 janvier 2004	Ahmed, né le 15 juillet 2003
Gilles, né le 8 avril 2003		Virginie, née le 15 mars 2003



	Lundi	Mardi	Mercredi	Jeudi	Vendredi
8h30	Education physique	Mathématique	Néerlandais	Mathématique	Mathématique
9h20	Mathématique	Eveil	Mathématique	Langue maternelle	Langue maternelle
10h10	Récréation				
10h25	Eveil	Néerlandais	Mathématique	Eveil	Eveil
11h15	Religion Morale	Mathématique	Langue maternelle	Néerlandais	Education physique
12h05	Temps de midi			Temps de midi	
13h30	Langue maternelle	Arts plastiques		Religion morale	Langue maternelle
14h20	Récréation			Récréation	
14h30 (à 15h20)	Langue maternelle	Musique		Eveil	Langue maternelle

a) Ecris vrai ou faux.

- ❖ Le jeudi à 11h15, Pierre suit le cours d'éducation physique :
- ❖ La grille-horaire compte 3 périodes de religion/morale :
- ❖ Il y a une période d'éveil le vendredi matin :
- ❖ Pierre fréquente l'école 4 matinées et 5 après-midi :

b) Indique l'heure à laquelle les activités suivantes commencent.

- ❖ Musique :
- ❖ Arts plastiques :
- ❖ Néerlandais (le mercredi) :
- ❖ Education physique (le vendredi) :

c) Indique les jours où ont lieu ces cours.

- ❖ Religion/morale : le et le
- ❖ Education physique : le et le

d) Complète ces phrases.

- ❖ Le cours d'éveil n'a pas lieu le (jour).
- ❖ La récréation du matin se termine àh.....

Voici deux documents qui présentent l'habitat des Gaulois. Lis attentivement et complète.

Document 1

Dans la maison gauloise, il n'y a pas de fenêtre. La chaleur est diffusée grâce au foyer central de l'habitation. Le peu de lumière qui éclaire l'intérieur provient du feu de l'âtre et de petites lampes à huile. N'ayant pas de cheminée, la fumée s'échappe par le toit. La maison a une forme carrée ou rectangulaire. La charpente est faite de poteaux en bois. Les murs sont fabriqués de branches entrecroisées et sont recouverts de torchis (paille, sable et terre). Le toit est en chaume (tiges de blé). Un abri extérieur sert de four à pain ou de four à poterie.

(Morgane Avalon, historienne)

Document 2



a) En comparant ces deux documents, écris 3 éléments qui prouvent que les auteurs de la BD n'ont pas tenu compte de la vérité historique.

1.....

2.....

3.....

b) Entoure la bonne réponse.

- Le document 1 sert à informer.
 prendre du plaisir.
 dessiner.
- Le document 2 sert à dessiner.
 informer.
 prendre du plaisir .

c) Complète cette phrase.

C'est le document n° qui me donne le plus de renseignements fiables sur l'habitat gaulois.

13

Observe attentivement les 3 photos de l'école de Bourcy (commune de Bastogne).

Photo 1



Photo 2



Photo 3

a) Réponds aux questions.

❖ La photo n° 2 est : ancienne - actuelle (entoure la bonne réponse)

Ecris un élément qui le prouve :

❖ La photo n° 3 est : ancienne - actuelle (entoure la bonne réponse)

Ecris un élément qui le prouve :



❖ La photo n° est la plus récente car on y voit

b) Compare les 3 photos, observe les détails et écris 2 éléments qui sont restés identiques depuis le début du siècle.

14

Complète le tableau suivant :

- en plaçant le numéro de chaque image dans la bonne case.
- en complétant le titre de chaque ligne du tableau.

	1900-1920	1940-1960	2000-2010
L'évolution des			
L'évolution des vêtements			
L'évolution du			



1



2



3



4



5



6



7

Observe le calendrier de l'année civile 2013 et réponds aux questions.



Monsieur Benoît a organisé pour sa classe une journée de découvertes à Dinant le 06 juin.

a. Quel jour de la semaine était-ce ? Écris-le :

b. Les réservations devaient être clôturées le mardi de la semaine précédant leur départ. Écris la date exacte de ce jour :

Le /..... /..... (exprimée en chiffres)

c. Écris le nombre de semaines entières du mois de juin ?
 semaines entières.

d. Vrai ou faux ?

Trace une croix au bon endroit.

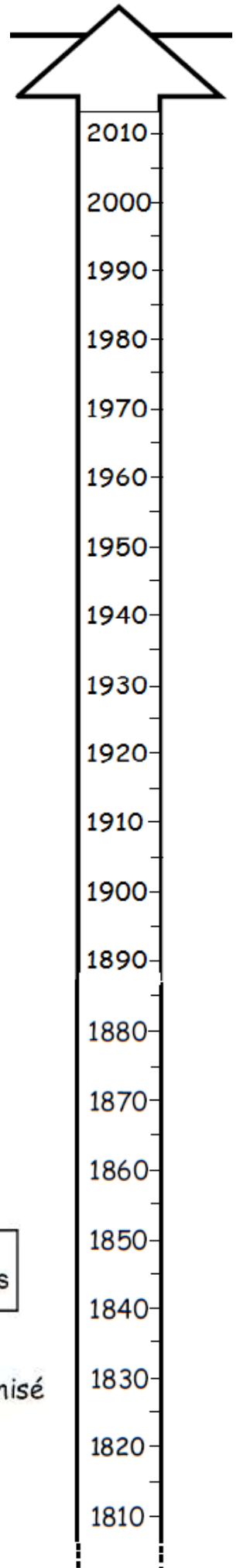
- Le mois d'octobre compte 3 samedis.
- Le mois d'avril compte autant de jours que le mois de septembre.
- Le 1^{er} jour de chaque mois commence TOUJOURS un lundi.

VRAI	FAUX

16

Lis les 4 consignes ci-dessous et complète la ligne du temps.
Ensuite, réponds aux 2 questions au bas de la page.

- Colorie la durée de sa vie en jaune.
- Trace par un trait vert l'année de l'invention du saxophone.
- Indique par un trait orange l'année de ta naissance.
- Entoure les 2 années d'inondation.



« ...Les inondations de décembre 1880 vont dépasser de loin en intensité celles survenues 30 ans plus tôt. La hauteur de la crue monte jusqu'à 6 mètres... »

Adolphe Sax est né à Dinant le 6 novembre 1814. Il a inventé le saxophone en 1846. Il mourut à Paris le 7 février 1894.

Écris l'âge qu'avait Adolphe Sax le jour de sa mort :

.....ans

Un concours pour les jeunes saxophonistes a débuté en 1994. Il est organisé tous les 4 ans. Nous sommes en 2013.

Écris l'année du prochain concours :

en

17 Tu voudrais te rendre à Dinant à la maison de la pataphonie avec ta famille. Celle-ci propose 3 moments ! Trace une croix dans la bonne case en t'aidant de l'horaire ci-dessous.

	<i>C'est possible</i>	<i>C'est impossible</i>
Le mercredi après-midi		
Le samedi		
Le dimanche matin		

Horaire des visites

GROUPES SCOLAIRES / SCHOOLGROEPEN / SCHOOLS
 TOUT PUBLIC / ALLE PUBLIEK / PUBLIC
 FERMÉ / GESLOTEN / CLOSED
 15 MAX
 6+

PERIODE SCOLAIRE - SCHOOLPERIODE - SCHOOL TIME		
	MATIN OCHTEND MORNING	APRES-MIDI NA MIDDAG AFTERNOON
LU-MA-MO	09:00 >	> 17:00
MA-DI-TU	09:00 >	> 17:00
ME-WO-WED	09:00 > 12:00	14:30
JE-DO-THU	09:00 >	> 17:00
VE-VRI-FR	09:00 >	> 17:00
SA-ZA-SA		
DI-ZO-SU		14:00 16:30
VACANCES SCOLAIRES - SCHOOL VAKANTIE - SCHOOL HOLIDAYS		
LU-MA-MO		14:00 16:30
MA-DI-TU		14:00 16:30
ME-WO-WED		14:00 16:30
JE-DO-THU		14:00 16:30
VE-VRI-FR		14:00 16:30
SA-ZA-SA		
DI-ZO-SU		14:00 16:30

Centre Culturel Régional de Dinant
 Rue Grande, 37 - 5500 Dinant - Tel: 00 32 (0)82/21.39.39.
 Fax: 00 32 (0)82/22.72.43. - info@ccrd.be - www.dinant.be

Voici 3 photos d'un même pont mais prises à des époques différentes.

Classe ces photos de la plus ancienne à la plus récente en complétant les cases par A, B, C.

Quels sont les indices qui te permettent de classer ces documents ?

.....



19

Observe les documents et complète.

a) Observe bien les 3 documents. Écris sous chacun d'eux le mot qui convient :


peinture - monument - sculpture - gravure - manuscrit



.....



.....



4. Panorama de Dinant à la fin du XVIII^e siècle. Gravure d'après un dessin.

.....

b) En se basant uniquement sur les documents ci-dessus, coche pour chaque phrase la bonne proposition.

	<i>Un des 3 documents le prouve</i>	<i>Aucun élément ne permet de le dire</i>
Adolphe Sax sait diriger un orchestre.		
Le cours d'eau longeant la ville de Dinant était navigable au XVII ^e siècle.		
Le moulin des batteurs n'existe plus aujourd'hui !		

Utilise le calendrier pour répondre aux questions.

En 2013, le roi Philippe et la reine Mathilde font leur « Joyeuse entrée » : ils se rendent dans les villes importantes du pays pour se présenter en tant que nouveaux souverains...

AOÛT 2013							SEPTEMBRE 2013							OCTOBRE 2013							NOVEMBRE 2013								
lun	mar	mer	jeu	ven	sam	dim	lun	mar	mer	jeu	ven	sam	dim	lun	mar	mer	jeu	ven	sam	dim	lun	mar	mer	jeu	ven	sam	dim		
			1	2	3	4						1		1	2	3	4	5	6					1	2	3			
5	6	7	8	9	10	11	2	3	4	5	6	7	8	7	8	9	10	11	12	13	4	5	6	7	8	9	10		
12	13	14	15	16	17	18	9	10	11	12	13	14	15	14	15	16	17	18	19	20	11	12	13	14	15	16	17		
19	20	21	22	23	24	25	16	17	18	19	20	21	22	21	22	23	24	25	26	27	18	19	20	21	22	23	24		
26	27	28	29	30	31		23	24	25	26	27	28	29	28	29	30	31				25	26	27	28	29	30			
							30																						
DÉCEMBRE 2013							JANVIER 2014							FÉVRIER 2014							MARS 2014								
lun	mar	mer	jeu	ven	sam	dim	lun	mar	mer	jeu	ven	sam	dim	lun	mar	mer	jeu	ven	sam	dim	lun	mar	mer	jeu	ven	sam	dim		
						1			1	2	3	4	5						1	2						1	2		
2	3	4	5	6	7	8	6	7	8	9	10	11	12	3	4	5	6	7	8	9	3	4	5	6	7	8	9		
9	10	11	12	13	14	15	13	14	15	16	17	18	19	10	11	12	13	14	15	16	10	11	12	13	14	15	16		
16	17	18	19	20	21	22	20	21	22	23	24	25	26	17	18	19	20	21	22	23	17	18	19	20	21	22	23		
23	24	25	26	27	28	29	27	28	29	30	31			24	25	26	27	28			24	25	26	27	28	29	30		
30	31																				31								
AVRIL 2014							MAI 2014							JUIN 2014							JUILLET 2014								
lun	mar	mer	jeu	ven	sam	dim	lun	mar	mer	jeu	ven	sam	dim	lun	mar	mer	jeu	ven	sam	dim	lun	mar	mer	jeu	ven	sam	dim		
		1	2	3	4	5	6				1	2	3	4							1			1	2	3	4	5	6
7	8	9	10	11	12	13	5	6	7	8	9	10	11	2	3	4	5	6	7	8	7	8	9	10	11	12	13		
14	15	16	17	18	19	20	12	13	14	15	16	17	18	9	10	11	12	13	14	15	14	15	16	17	18	19	20		
21	22	23	24	25	26	27	19	20	21	22	23	24	25	16	17	18	19	20	21	22	21	22	23	24	25	26	27		
28	29	30					26	27	28	29	30	31		23	24	25	26	27	28	29	28	29	30	31					
														30															

a) - Entoure en jaune la date du 18 octobre, jour de la joyeuse entrée à Arlon.

Ce jour du 18 octobre était un

- Le couple royal s'est rendu à Eupen le mercredi suivant.

Écris la date de ce jour : le / / (jour/mois/année)

- La joyeuse entrée à Louvain a eu lieu le premier vendredi de septembre.

Écris la date de ce jour : le / / (jour/mois/année)

b. D'autres événements ont marqué cette année scolaire.

* Colorie :

Code couleur	Événement	dates
rouge	La durée de la coupe du monde de football au Brésil.	du 12 juin 2014 au 13 juillet 2014

* Entoure sur le calendrier les dates suivantes (en suivant le code) :

Code couleur	Événements	Dates
<i>bleu</i>	La qualification des Diables Rouges pour le mondial au Brésil.	le 2 ^e jeudi du mois d'octobre 2013
<i>vert</i>	Le premier anniversaire de l'intronisation du roi Philippe.	21 juillet.
<i>noir</i>	Le prix Nobel de physique est décerné au Belge François Englert.	le 8 octobre 2013

* Entoure la bonne réponse :

Le 6 août 2014 sera un : lundi - mardi - mercredi - jeudi - vendredi

21 Utilise le document « La famille royale » pour répondre aux questions (Portfolio Document 2).

a) Complète les pointillés.

- Philippe I^{er} est le^e roi des Belges.

- L'épouse de Baudouin I^{er} s'appelle

b) Choisis dans la liste les mots qui conviennent.

le petit-fils	le fils	le frère	le cousin	le père	l'oncle	le grand-père
---------------	---------	----------	-----------	---------	---------	---------------

Baudouin I^{er} est d'Albert II.

Léopold III est de Laurent.

Laurent est d'Élisabeth.

relie le roi qui régnait lors de cet événement.

- Albert II • • On a marché sur la Lune (1969)
- Léopold I^{er} • • La monnaie unique (1^{er} janvier 2002)
- Baudouin I^{er} • • 2^e guerre mondiale (1939 - 1944)
- Albert I^{er} • • Victor Hugo a écrit « Les Misérables » (1862)
- Léopold III • • 1^{re} guerre mondiale (1914 - 1918)

22 Analyse les 3 photos prises à Bastogne à différentes périodes (Portfolio Document 3).

a) La reine Mathilde est venue se promener à Bastogne, sa ville natale.

Écris le numéro de la photo sur laquelle tu as le plus de chance de la trouver :

Photo n°

b) Entoure 1 même élément observable qui apparaît sur chaque photo.

c) Choisis parmi ces 3 propositions :

1900	1940	2010
------	------	------

- La photo 1 a été prise en

- La photo 2 a été prise en

- La photo 3 a été prise en

23

Repère-toi sur une ligne du temps.

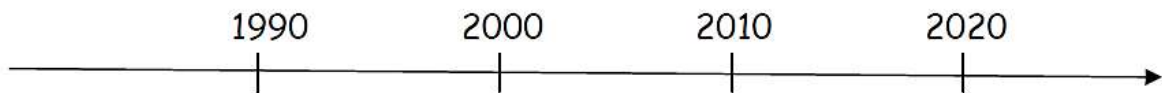
NB : Le Centre Médical Hélicoptéré ou CMH est un service médical d'urgence et de réanimation par hélicoptère.

a) Place ces dates sur la ligne du temps qui t'est proposée.

- 1986 : création du centre médical hélicoptéré (un trait vert).
- 1996 : réalisation de missions de secours d'urgence (un trait jaune)

b) Ajoute sur cette ligne du temps.

- ton année de naissance (un trait rouge).
- l'année 2015 (un trait bleu).




24

Relie chaque information à son image, et chaque image à sa nature.

C'est le croquis de l'hélicoptère de Leonard de Vinci.

1488



Photo

Représentation de Yves Lebecq.

1958



Dessin

Hélicoptère de Bra-sur-Lienne.

2014



Peinture

365 Janvier 2015	365 Février 2015	365 Mars 2015	365 Avril 2015
Lun. Mar. Mer. Jeu. Ven. Sam. Dim.	Lun. Mar. Mer. Jeu. Ven. Sam. Dim.	Lun. Mar. Mer. Jeu. Ven. Sam. Dim.	Lun. Mar. Mer. Jeu. Ven. Sam. Dim.
1 2 3 4 5	5 6 7 8 9	9 10 11 12 13 14	14 15 16 17 18
6 7 8 9 10 11 12 13 14 15 16 17 18 19 20 21 22 23 24 25 26 27 28 29 30 31	10 11 12 13 14 15 16 17 18 19 20 21 22 23 24 25 26 27 28	15 16 17 18 19 20 21 22 23 24 25 26 27 28 29 30 31	19 20 21 22 23 24 25 26 27 28 29 30
365 Mai 2015	365 Juin 2015	365 Juillet 2015	365 Aout 2015
Lun. Mar. Mer. Jeu. Ven. Sam. Dim.	Lun. Mar. Mer. Jeu. Ven. Sam. Dim.	Lun. Mar. Mer. Jeu. Ven. Sam. Dim.	Lun. Mar. Mer. Jeu. Ven. Sam. Dim.
18 19 20 21 22	23 24 25 26 27	27 28 29 30 31	31 32 33 34 35 36
1 2 3 4 5 6 7 8 9 10 11 12 13 14 15 16 17 18 19 20 21 22 23 24 25 26 27 28 29 30 31	1 2 3 4 5 6 7 8 9 10 11 12 13 14 15 16 17 18 19 20 21 22 23 24 25 26 27 28 29 30	1 2 3 4 5 6 7 8 9 10 11 12 13 14 15 16 17 18 19 20 21 22 23 24 25 26 27 28 29 30 31	1 2 3 4 5 6 7 8 9 10 11 12 13 14 15 16 17 18 19 20 21 22 23 24 25 26 27 28 29 30 31
365 Septembre 2015	365 Octobre 2015	365 Novembre 2015	365 Décembre 2015
Lun. Mar. Mer. Jeu. Ven. Sam. Dim.	Lun. Mar. Mer. Jeu. Ven. Sam. Dim.	Lun. Mar. Mer. Jeu. Ven. Sam. Dim.	Lun. Mar. Mer. Jeu. Ven. Sam. Dim.
36 37 38 39 40	40 41 42 43 44	44 45 46 47 48 49	49 50 51 52 53
1 2 3 4 5 6 7 8 9 10 11 12 13 14 15 16 17 18 19 20 21 22 23 24 25 26 27 28 29 30	1 2 3 4 5 6 7 8 9 10 11 12 13 14 15 16 17 18 19 20 21 22 23 24 25 26 27 28 29 30 31	1 2 3 4 5 6 7 8 9 10 11 12 13 14 15 16 17 18 19 20 21 22 23 24 25 26 27 28 29 30	1 2 3 4 5 6 7 8 9 10 11 12 13 14 15 16 17 18 19 20 21 22 23 24 25 26 27 28 29 30 31

1 janvier Premier de l'An
6 janvier Épiphanie
14 février Saint-Valentin
17 février Mardi Gras
5 avril Dimanche de Pâques
6 avril Lundi de Pâques
1 mai Fête du travail
8 mai Victoire 1945
14 mai Ascension
24 mai Dimanche de Pentecôte
25 mai Lundi de Pentecôte
14 juillet Fête Nationale
15 août Assomption
1 novembre Toussaint
11 novembre Armistice de 1918
25 décembre Noël
31 décembre Saint-Sylvestre

Calendrier & Jours fériés
2015
 Calendrier-365.fr

Les 3 pilotes de l'hélicoptère (Philippe, Ahmed et Bradley) doivent planifier leur travail durant les mois de juillet et aout. Attention, tous les jours doivent être pris en charge par les pilotes.

a) Colorie en vert la période de travail de Philippe, sachant qu'il travaille...

- la première et la dernière semaine de juillet
- tous les dimanches du mois d'aout
- le jour de l'Assomption

b) Colorie en bleu la période de travail d'Ahmed, sachant qu'il travaille...

- du 1^{er} au 14 aout sauf les dimanches
- du 6 au 25 juillet sauf les dimanches

c) Écris les dates des dimanches durant lesquels Bradley devra travailler.

..... / / 2015 / / 2015 / / 2015

d) Écris la période durant laquelle Bradley devra encore travailler de manière à couvrir les 2 mois.

Du / / 2015 au / / 2015 sauf les

26

Relie le portrait du Roi à son nom.

Relie ensuite le Roi (en fonction) qui a participé à chaque événement.

Sauvage 1er ●



● Règne de 2013 à ... ●

● L'Atomium a été inauguré pour l'exposition universelle de 1958.



Albert 2 ●



● Règne de 1993 à 2013 ●

● Le stade du Heysel a été construit en 1930.



Philippe 1er ●



● Règne de 1951 à 1993 ●

Albert 1er ●



● Règne de 1934 à 1951 ●

● Pour fêter les 50 ans de l'Indépendance de la Belgique, le Roi fait construire en 1880 les Arcades du Cinquantenaire.



Léopold 2 ●



● Règne de 1909 à 1934 ●

● Le 30 décembre 1835, la locomotive à vapeur « Le Belge » est la première machine construite en Belgique.



Léopold 1er ●



● Règne de 1865 à 1909 ●

Léopold 3 ●



● Règne de 1831 à 1865 ●

27

Observe les deux cartes postales de la ville d'Arlon et réponds aux questions.



Écris le nom de la rue de la carte postale A :

Écris le nom de la rue de la carte postale B :

Choisis et écris la date qui convient sous chaque photo (dans le cadre blanc).

1910

1350

2016


Écris trois choses différentes visibles sur la photo B et qu'on ne voit pas sur la photo A.

-
-
-

Entoure un élément visible sur la photo A et toujours présent sur la photo B.

Observe la photographie et réponds aux questions.

Citadelle de Namur




Namur. Fin de la construction en 1692. Photo prise en 1998.

Observe la carte postale et entoure un élément de la légende qui nous prouve que ce bâtiment a été construit au 17^e siècle.

Complète :

Aujourd'hui, nous sommes au siècle.

Sur cette ligne du temps, colorie le siècle correspondant à l'année 1998.



29 Observe attentivement ces monuments de la ville de Mons, puis complète.



photo A



photo B



photo C



photo D



photo E



photo F

Écris la lettre de la photo qui correspond au commentaire.

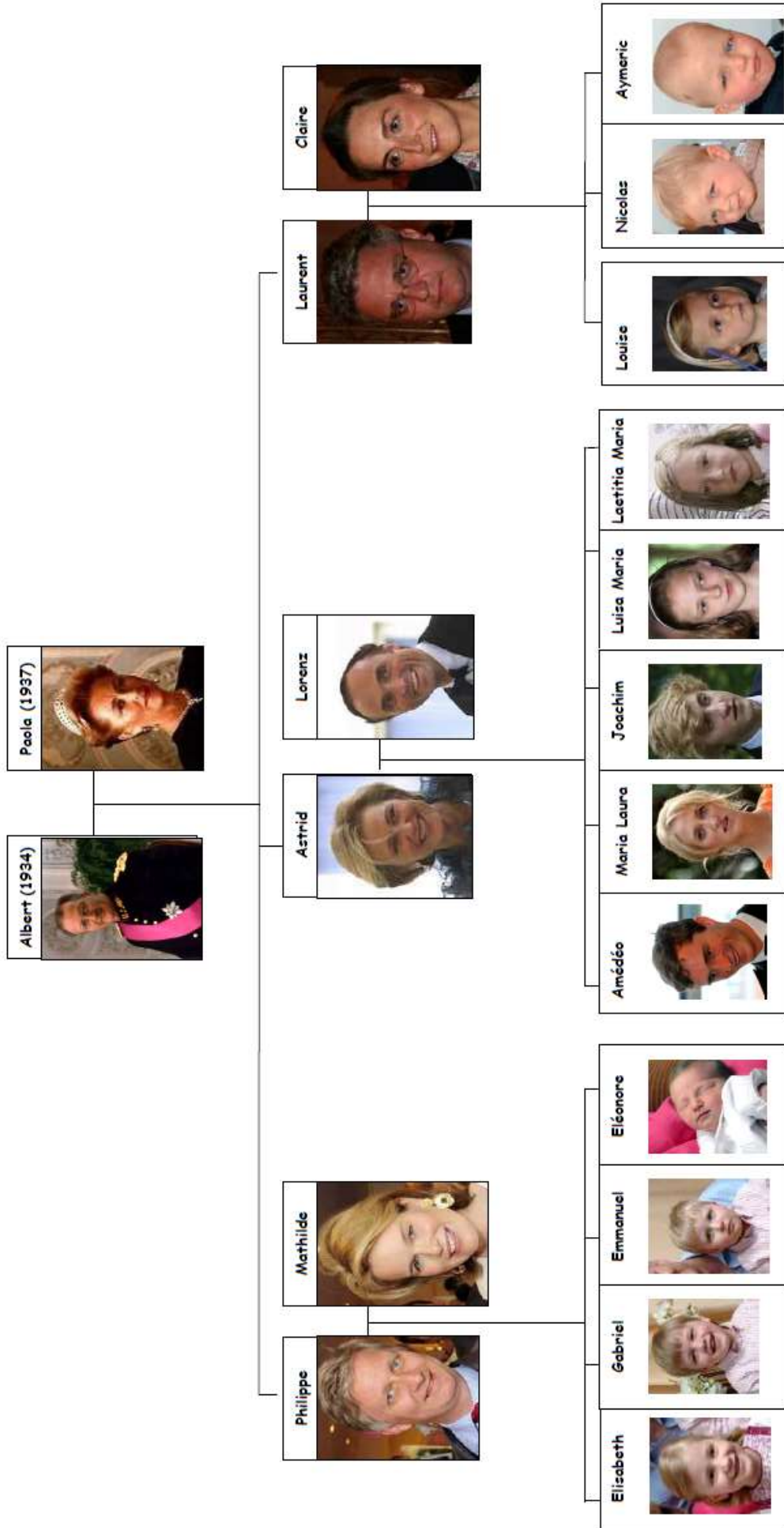
Le Beffroi de Mons est une tour de guet, d'horloge et de carillons. C'est le symbole de la ville de Mons.	⇒ photo
Le Doudou est une fête mondialement connue qui se déroule dans le centre de Mons. Le public assiste au combat légendaire entre saint Georges et le Dragon.	⇒ photo
Dans le musée du Doudou, on peut découvrir la fête du Doudou ainsi que les objets du folklore montois. La façade est en briques rouges.	⇒ photo
L'Hôtel de ville de Mons est un bâtiment rectangulaire avec une sorte de petit clocher. Il a des drapeaux sur la façade.	⇒ photo
Le Théâtre de Mons est un bâtiment où on peut assister à des spectacles. Il a un grand triangle sur sa façade.	⇒ photo
La Collégiale Saint-Waudru est une église très connue à Mons.	⇒ photo

Révisions CTE :

éveil historique

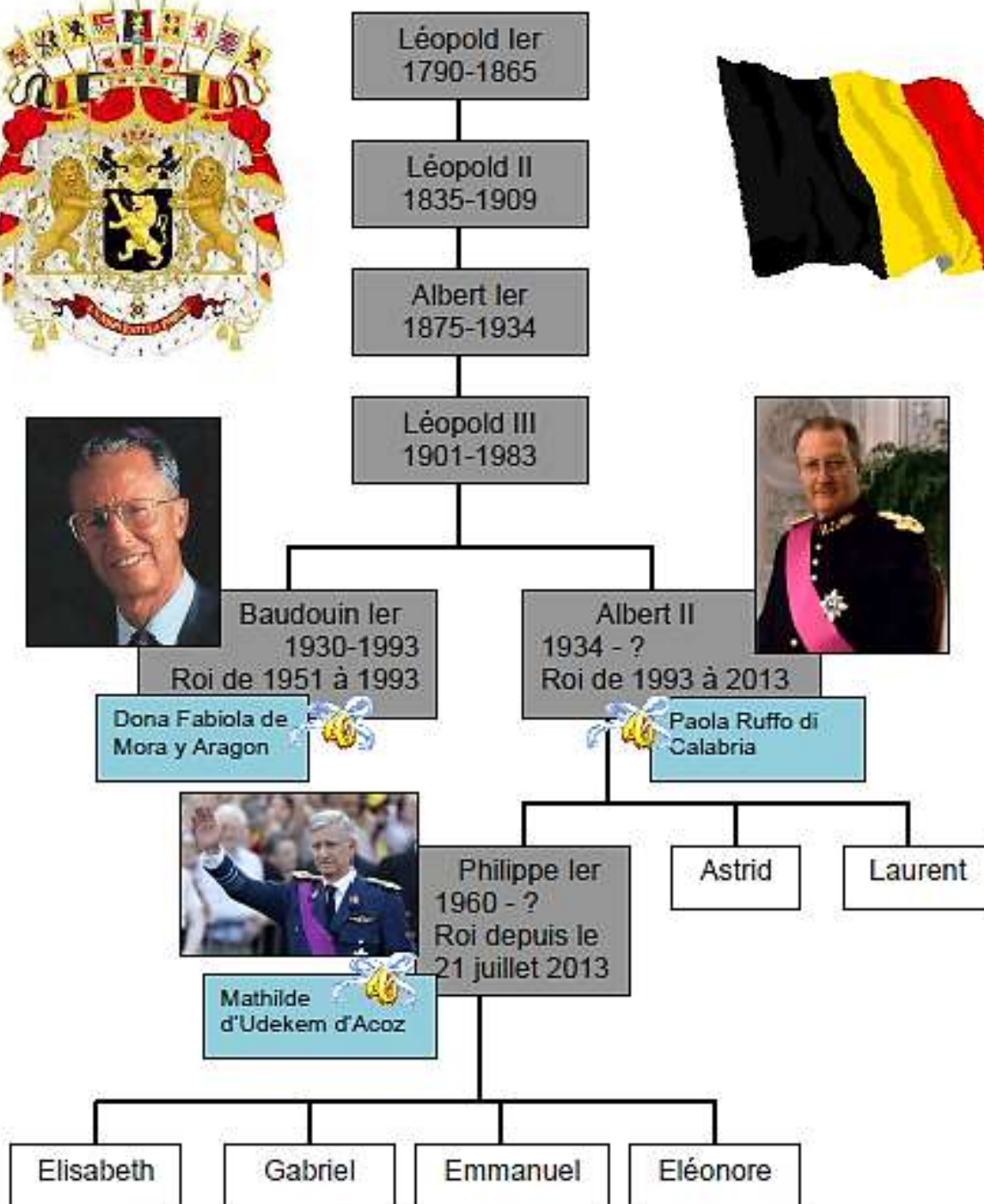
Portfolio


Document 1



Document 2

La famille royale belge



 = mariage

Document 3

Photo 1



1914

www.delcampe.net

Photo 2



Photo 3

